

SC-ST IAS Free Coaching 12-01-2025

1. Consider the following leaders :

- Sardar Patel
- Yousuf Mehar Ali
- Rajendra Prasad

Who among the above were prominent Socialists and members of the Congress Socialist Party ?

- a and b only
- b only
- a and c only
- a, b and c

2. Consider the following pairs related to war and king/queen. Which of the following is correctly matched ?

- First Tarain War – defeat of Rajabhoja
- Second Tarain War – defeat of Dharmapala
- First Panipat War – Queen Durgadevi defeated
- Chandawar War – defeat of King Jayachandra

3. Sum of squares of two numbers is 145. If square root of one number is 3, then other number is :

- 136
- 9
- 64
- 8

AKKA IAS ACADEMY

A box has 210 coins of denominations one-rupee and fifty-paise only. The ratio of their respective values is 13 : 11. The number of one-rupee coins is _____.

- 65
- 66
- 77
- 78

Deepa swims 26 km downstream in the same time as 14 km upstream. What is her speed in still water if the speed of the stream is 3 km/hr ?

- 10 km/hr
- 12 km/hr
- 7 km/hr
- 4 km/hr

By selling a bicycle for ₹ 2850, a shopkeeper gains 14%. If the profit is reduced to 8%, then the selling price will be :

- ₹ 2600
- ₹ 2700
- ₹ 2800
- ₹ 3000

Space for Rough Work / ಕಚ್ಚಾ ಕೆಲಸಕ್ಕೆ ಸ್ಥಳ

11UP25

$$\frac{210x}{120} = 13x + 11x \times 0.50$$

$$210x = 13x + 5.5x$$

$$210x = 18.5x$$

$$210 = 18.5$$

$$210 \div 18.5 = 11.35$$

SHIKARAT.COM

SC-ST IAS Free Coaching 12-01-2025

1. ಈ ಕೆಳಗಿನ ನಾಯಕರನ್ನು ಪರಿಗಣಿಸಿ :

- ಸರ್ದಾರ್ ಪಟೇಲ್
- ಯೂಸುಫ್ ಮೆಹರ್ ಅಲಿ
- ರಾಜೇಂದ್ರ ಪ್ರಸಾದ್

ಮೇಲಿನವರಲ್ಲಿ ಯಾರು ಪ್ರಮುಖ ಸಮಾಜವಾದಿಗಳು ಮತ್ತು ಕಾಂಗ್ರೆಸ್ ಸಮಾಜವಾದಿ ಪಕ್ಷದ ಸದಸ್ಯರಾಗಿದ್ದರು?

- a ಮತ್ತು b ಮಾತ್ರ
- b ಮಾತ್ರ
- a ಮತ್ತು c ಮಾತ್ರ
- a, b ಮತ್ತು c

2. ಈ ಕೆಳಗಿನ ಕೋಡಿಗಳಲ್ಲಿ ಯುದ್ಧ ಮತ್ತು ರಾಜ/ರಾಣಿ ಸಂಬಂಧಿಸಿದಂತೆ ಸರಿಯಾದ ಕೋಡಿಯನ್ನು ಗುರುತಿಸಿರಿ.

- ಒಂದನೇ ತರೈನ್ ಯುದ್ಧ – ರಾಜಭೋಜನ ಸೋಲು
- ಎರಡನೇ ತರೈನ್ ಯುದ್ಧ – ಧರ್ಮಪಾಲನ ಸೋಲು
- ಒಂದನೇ ಪಾನಿಪತ್ ಯುದ್ಧ – ರಾಣಿ ದುರ್ಗಾದೇವಿಯ ಸೋಲು
- ಚಾಂದ್ವಾರ್ ಯುದ್ಧ – ರಾಜಾ ಜಯಚಂದ್ರನ ಸೋಲು

3. ಎರಡು ಸಂಖ್ಯೆಗಳ ವರ್ಗಗಳ ಮೊತ್ತ 145 ಹಾಗೂ ಆ ಎರಡರಲ್ಲಿ ಒಂದು ಸಂಖ್ಯೆಯ ವರ್ಗಮೂಲ 3. ಹಾಗಾದರೆ ಇನ್ನೊಂದು ಸಂಖ್ಯೆ ಯಾವುದು ?

- 136
- 9
- 64
- 8

AKKA IAS ACADEMY

4. ಒಂದು ಪೆಟ್ಟಿಗೆಯಲ್ಲಿ ಒಂದು ರೂಪಾಯಿ ಮತ್ತು ಐವತ್ತು ಪೈಸೆಯ 210 ನಾಣ್ಯಗಳಿವೆ. ಅವುಗಳ ಆಯಾ ಮೌಲ್ಯಗಳ ಅನುಪಾತವು 13 : 11. ಹಾಗಾದರೆ ಒಂದು ರೂಪಾಯಿ ನಾಣ್ಯಗಳ ಸಂಖ್ಯೆ _____ ಆಗಿದೆ.

- 65
- 66
- 77
- 78

5. ದೀಪಾ ನಿಗದಿತ ಸಮಯದಲ್ಲಿ ಪ್ರವಾಹದ ದಿಕ್ಕಿನಲ್ಲಿ 26 ಕಿ.ಮೀ. ಹಾಗೂ ಪ್ರವಾಹದ ವಿರುದ್ಧ ದಿಕ್ಕಿನಲ್ಲಿ 14 ಕಿ.ಮೀ. ಈಜಬಲ್ಲಳು. ನೀರಿನ ಪ್ರವಾಹದ ವೇಗವು 3 ಕಿ.ಮೀ./ಗಂ. ಆದರೆ ನಿಶ್ಚಲ ನೀರಿನಲ್ಲಿ ದೀಪಾಳ ಈಜುವ ವೇಗ ಎಷ್ಟು ?

- 10 ಕಿ.ಮೀ./ಗಂ.
- 12 ಕಿ.ಮೀ./ಗಂ.
- 7 ಕಿ.ಮೀ./ಗಂ.
- 4 ಕಿ.ಮೀ./ಗಂ.

6. ₹ 2850 ಕ್ಕೆ ಒಂದು ಸೈಕಲ್‌ನ್ನು ಮಾರಿ ಒಬ್ಬ ವ್ಯಾಪಾರಿ ಶೇಕಡಾ 14 ರಷ್ಟು ಲಾಭ ಗಳಿಸುತ್ತಾನೆ. ಲಾಭವು ಶೇಕಡಾ 8 ಕ್ಕೆ ಕುಸಿದರೆ ಸೈಕಲ್‌ನ್ನು ಮಾರಿದ ಬೆಲೆ ಎಷ್ಟು ?

- ₹ 2600
- ₹ 2700
- ₹ 2800
- ₹ 3000

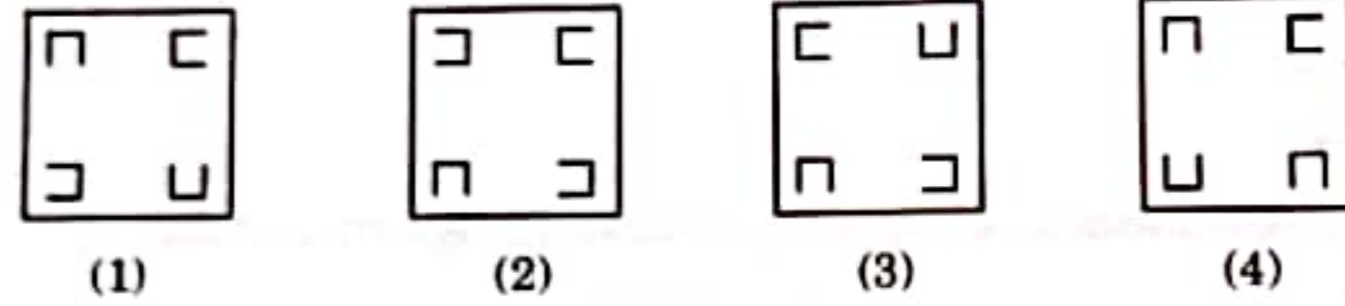
Space for Rough Work / ಕಚ್ಚಾ ಕೆಲಸಕ್ಕೆ ಸ್ಥಳ

SHIKARAT.COM

SWD1201UP25

(3 - C1)

7. Choose the figure which is different from others.



8. The LCM of two numbers is 14 times their HCF. The sum of the LCM and HCF is 900. If one number is 420, then the other number is :

- (1) 120 (2) 180 (3) 100 (4) 150

9. If 26th January 2024 was Friday, what day of the week was it on 15th August 2024 and 26th January 2025 respectively ?

- (1) Thursday – Sunday (2) Thursday – Saturday
- (3) Friday – Sunday (4) Friday – Monday

10. The number of arrangements that can be made with the letters of the word CONSTITUTION in which all vowels come together is _____ .

- (1) 3,360 (2) 40,320
- (3) 1,00,800 (4) 47,90,01,600

11. If BOARD is coded as 26194 and CHALK is coded as 38157, how can CHARCOAL be coded ?

- (1) 38139615 (2) 38163915
- (3) 38193615 (4) 38193516

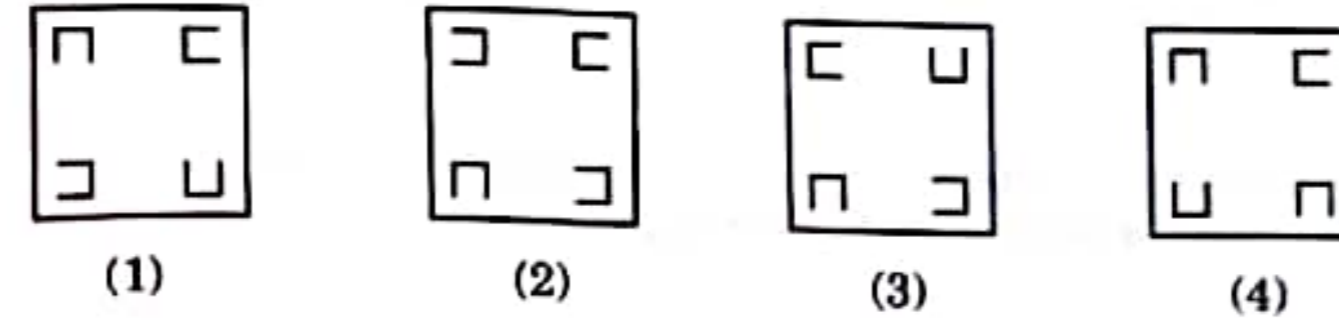
12. The average of 9 numbers is 30, the average of first five numbers is 25 and that of the last 3 numbers is 35. What is the 6th number ?

- (1) 30 (2) 40
- (3) 50 (4) 20

Space for Rough Work / ಕಚ್ಚಾ ಕೆಲಸಕ್ಕೆ ಸ್ಥಳ

Handwritten rough work for question 11. It shows the words BOARD, CHALK, and CHARCOAL with their corresponding letter positions. BOARD is mapped to 26194, CHALK to 38157, and CHARCOAL to 38193516. A box highlights the code 38193516.

7. ಈ ಕೆಳಗಿನವುಗಳಲ್ಲಿ ಇತರ ಚಿತ್ರಗಳಿಂದ ವಿಭಿನ್ನವಾದ ಚಿತ್ರವನ್ನು ಆಯ್ಕೆಮಾಡಿ :



8. ಎರಡು ಸಂಖ್ಯೆಗಳ LCM ಅವುಗಳ HCF ಗಿಂತ 14 ಪಟ್ಟು ಹೆಚ್ಚಾಗಿವೆ. LCM ಮತ್ತು HCF ಮೊತ್ತವು 900 ಆಗಿದೆ. ಒಂದು ಸಂಖ್ಯೆ 420 ಆಗಿದ್ದರೆ ಇನ್ನೊಂದು ಸಂಖ್ಯೆಯು _____ .

- (1) 120 (2) 180 (3) 100 (4) 150

9. 26ನೇ ಜನವರಿ 2024 ಶುಕ್ರವಾರವಾಗಿದ್ದರೆ, 15ನೇ ಆಗಸ್ಟ್ 2024 ಮತ್ತು 26ನೇ ಜನವರಿ 2025 ಅನುಕ್ರಮವಾಗಿ ಯಾವ ದಿನಗಳಾಗಿರುತ್ತವೆ?

- (1) ಗುರುವಾರ – ಭಾನುವಾರ (2) ಗುರುವಾರ – ಶನಿವಾರ
- (3) ಶುಕ್ರವಾರ – ಭಾನುವಾರ (4) ಶುಕ್ರವಾರ – ಸೋಮವಾರ

10. CONSTITUTION ಎಂಬ ಪದದ ಅಕ್ಷರಗಳನ್ನು ಬಳಸಿ, ಎಲ್ಲಾ ಸ್ವರಗಳು (ವವಲ್ಸ್) ಒಟ್ಟಿಗೆ ಬರುವಂತೆ ಎಷ್ಟು ಸಂಖ್ಯೆಯ ಮಾದರಿಗಳನ್ನು ಮಾಡಬಹುದು?

- (1) 3,360 (2) 40,320
- (3) 1,00,800 (4) 47,90,01,600

11. BOARD ಅನ್ನು 26194 ಆಗಿ ಸಾಂಕೇತಿಸಿದರೆ ಹಾಗೂ CHALK ಅನ್ನು 38157 ಆಗಿ ಸಾಂಕೇತಿಸಿದರೆ, CHARCOAL ಅನ್ನು ಹೇಗೆ ಸಾಂಕೇತಿಸಬಹುದು ?

- (1) 38139615 (2) 38163915
- (3) 38193615 (4) 38193516

12. 9 ಸಂಖ್ಯೆಗಳ ಸರಾಸರಿಯು 30 ಆಗಿರುತ್ತದೆ. ಮೊದಲ 5 ಸಂಖ್ಯೆಗಳ ಸರಾಸರಿಯು 25 ಆಗಿರುತ್ತದೆ ಹಾಗೂ ಕೊನೆಯ 3 ಸಂಖ್ಯೆಗಳ ಸರಾಸರಿಯು 35 ಆಗಿರುತ್ತದೆ. ಹಾಗಿದ್ದರೆ 6ನೇ ಸಂಖ್ಯೆಯು ಎಷ್ಟಾಗಿರುತ್ತದೆ ?

- (1) 30 (2) 40
- (3) 50 (4) 20

Space for Rough Work / ಕಚ್ಚಾ ಕೆಲಸಕ್ಕೆ ಸ್ಥಳ

Handwritten rough work for question 12. It shows a list of numbers 1 through 9 and their cumulative sums. It calculates that the sum of the first 5 numbers is 125 and the sum of the last 3 numbers is 105. The 6th number is found by subtracting 105 from 125, resulting in 20.

13. Five members of a family A, B, C, D and E are travelling together. B is the daughter of C but C is not the father of B. A and C are a married couple. E is the brother of B. D is the daughter of A. How many female members are there in the family ?


- (1) 1 (2) 2 (3) 3 (4) 4

14. In a certain code language '+' represents 'x', '-' represents '+', 'x' represents '+' and '+' represents '-'. What is the answer to the following equation ?

$221 \times 17 + 2 - 6 + 5 = ?$

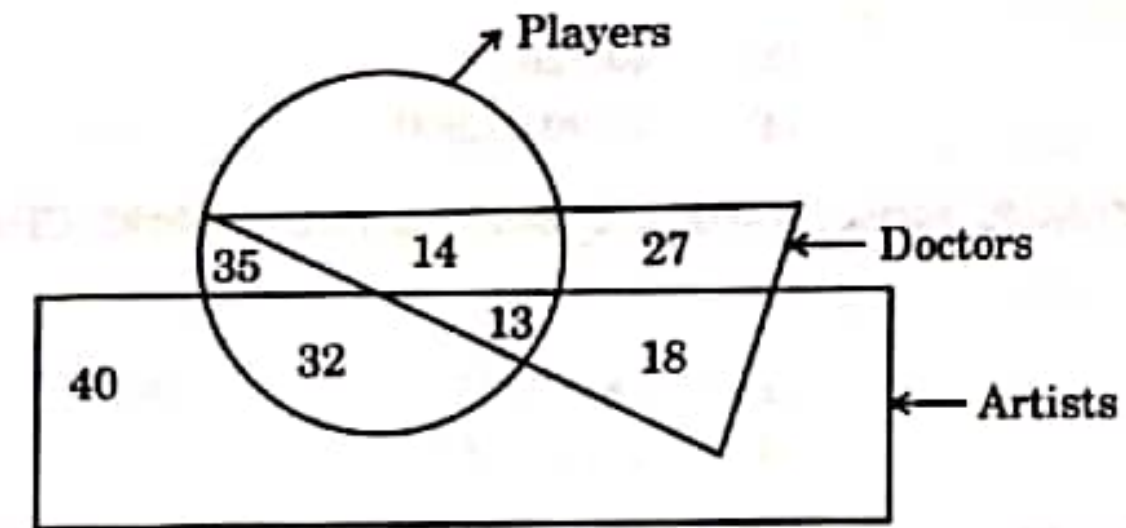
- (1) 33 (2) 41 (3) 57 (4) 75

15. Which of the following Venn diagram indicates the best relation between Mountains, Earth and Forests ?



Directions : (Question numbers 16 - 18)

Each of the following questions is based on the diagram given below. Study the diagram carefully and answer the questions.



In the above diagram, rectangle represents 'Artists', circle represents 'Players' and triangle represents 'Doctors'.

Space for Rough Work / ಕಚ್ಚಾ ಕೆಲಸಕ್ಕೆ ಸ್ಥಳ

Handwritten calculations:
 $221 \div 17 = 13$
 $13 - 2 + 6 \times 5 = 13 - 2 + 30 = 41$
 $33 \times 17 = 561$
 $561 + 2 - 6 + 5 = 562$

SWD1201UP25

13. ಒಂದು ಕುಟುಂಬದ A, B, C, D ಮತ್ತು E ಎಂಬ 5 ಜನರು ಒಟ್ಟಿಗೆ ಪ್ರಯಾಣಿಸುತ್ತಿದ್ದಾರೆ. B ಯು C ಯ ಮಗಳು ಆದರೆ C ಯು B ಯ ತಂದೆಯಲ್ಲ. A ಮತ್ತು C ದಂಪತಿಗಳು. E ಯು B ಯ ಸಹೋದರ. D ಯು A ಯ ಮಗಳು. ಕಾರಾದರೆ ಕುಟುಂಬದಲ್ಲಿ ಎಷ್ಟು ಜನ ಹೆಣ್ಣುಮಕ್ಕಳು ಇದ್ದಾರೆ ?

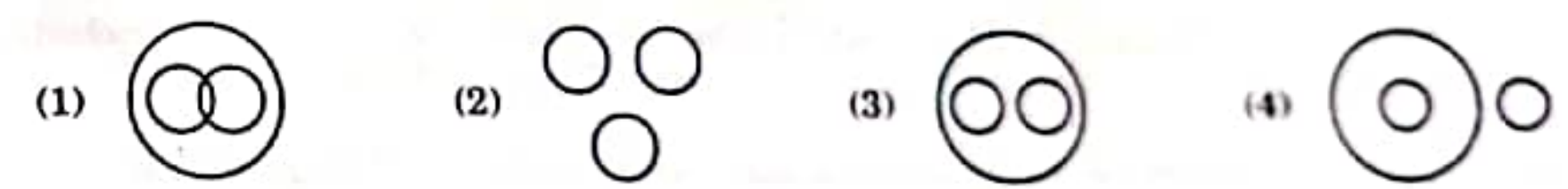
- (1) 1 (2) 2 (3) 3 (4) 4

14. ಒಂದು ನಿರ್ದಿಷ್ಟ ಸಾಂಕೇತಿಕ ಭಾಷೆಯಲ್ಲಿ '+' ಅಂದರೆ 'x', '-' ಅಂದರೆ '+', 'x' ಅಂದರೆ '+' ಮತ್ತು '+' ಅಂದರೆ '-'. ಕೆಳಗಿದ್ದರೆ ಈ ಕೆಳಗಿನ ಸಮೀಕರಣದ ಉತ್ತರ ಎಷ್ಟು ?

$221 \times 17 + 2 - 6 + 5 = ?$

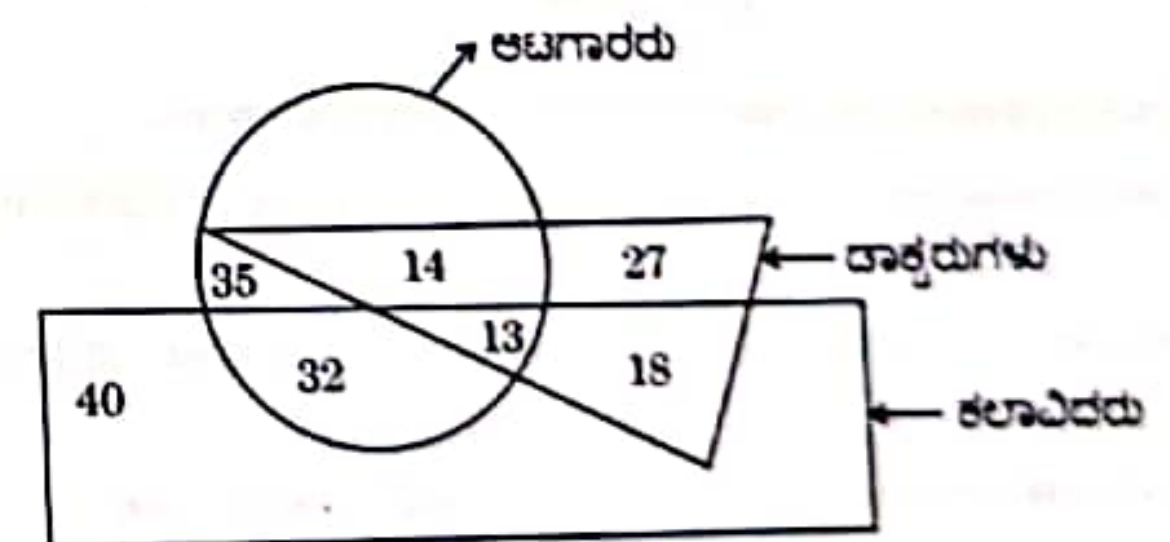
- (1) 33 (2) 41 (3) 57 (4) 75

15. ಈ ಕೆಳಗಿನ ಯಾವ ವೆನ್ ರೇಖಾಚಿತ್ರವು ಪರ್ವತಗಳು, ಭೂಮಿ ಮತ್ತು ಅರಣ್ಯಗಳ ನಡುವಿನ ಉತ್ತಮ ಸಂಬಂಧವನ್ನು ಸೂಚಿಸುತ್ತದೆ ?



ನಿರ್ದೇಶನಗಳು : (ಪ್ರಶ್ನೆ ಸಂಖ್ಯೆಗಳು 16 - 18)

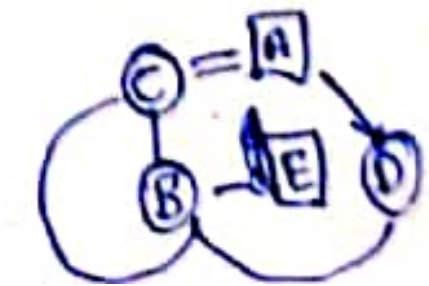
ಈ ಕೆಳಗಿನ ರೇಖಾಚಿತ್ರವನ್ನು ಅಧರಿಸಿ, ಈ ಕೆಳಕಂಡ ಪ್ರತಿ ಪ್ರಶ್ನೆಗಳನ್ನು ನೀಡಲಾಗಿದೆ. ರೇಖಾಚಿತ್ರವನ್ನು ಸೂಚಿಸುತ್ತದೆ.



ಮೇಲಿನ ರೇಖಾಚಿತ್ರದಲ್ಲಿ, ಆಯತಾಕೃತಿಯು 'ಕಲಾವಿದರನ್ನು', ವೃತ್ತವು 'ಆಟಗಾರರನ್ನು' ಮತ್ತು ತ್ರಿಕೋನಾಕೃತಿಯು 'ದಾಕ್ತರ' ಗಳನ್ನು ಪ್ರತಿನಿಧಿಸುತ್ತವೆ.

Space for Rough Work / ಕಚ್ಚಾ ಕೆಲಸಕ್ಕೆ ಸ್ಥಳ

SWD1201UP25



(7-C1)

16. How many players are neither artists nor doctors ?

- (1) 32 (2) 18
(3) 14 (4) 35

17. How many artists are players ?

- (1) 32 (2) 45
(3) 13 (4) 18

18. How many doctors are players and artists both ?

- (1) 13 (2) 14
(3) 32 (4) 27

19. Consider the following statements :

- a. The Chauri-Chaura incident led to the suspension of the Civil Disobedience Movement.
b. The Non-Cooperation Movement was launched formally on 1st August 1920.
c. After Chauri-Chaura, the Non-Cooperation Movement intensified.

How many of the above statement/s is/are correct ?

- (1) Only one (2) Only two
(3) All three (4) None

20. With reference to the Simon Commission, consider the following statements :

- a. The Commission was boycotted by Indians because it did not include any Indian member.
b. The Commission was set up to review the working of the Government of India Act of 1919.
c. The Congress supported the recommendations of the Simon Commission.

Which of the statements given above are correct ?

- (1) a and b only (2) b and c only
(3) a and c only (4) a, b and c

Space for Rough Work / ಕಚ್ಚಾ ಕೆಲಸಕ್ಕೆ ಸ್ಥಳ

16. ಹಾಗಾದರೆ ಎಷ್ಟು ಆಟಗಾರರು ಕಲಾವಿದರೂ ಅಲ್ಲ ಅದವಾ ಡಾಕ್ಟರ್‌ಗಳೂ ಅಲ್ಲ?

- (1) 32 (2) 18
(3) 14 (4) 35

17. ಎಷ್ಟು ಕಲಾವಿದರು ಆಟಗಾರರಾಗಿದ್ದಾರೆ?

- (1) 32 (2) 45
(3) 13 (4) 18

18. ಎಷ್ಟು ಡಾಕ್ಟರ್‌ಗಳು ಆಟಗಾರರು ಮತ್ತು ಕಲಾವಿದರು ಎರಡೂ ಆಗಿದ್ದಾರೆ?

- (1) 13 (2) 14
(3) 32 (4) 27

19. ಈ ಕೆಳಗಿನ ಹೇಳಿಕೆಗಳನ್ನು ಪರಿಗಣಿಸಿ :

- a. ಚೌರಿ-ಚೌರಾ ಘಟನೆಯ ನಾಗರಿಕ ಕಾನೂನುಬಾಹಿರ ಚಟುವಟಿಕೆಯನ್ನು ಅಂತ್ಯಗೊಳಿಸಲು ಕಾರಣವಾಯಿತು.
b. ಅಸಹಕಾರ ಚಟುವಟಿಕೆಯನ್ನು ಔಪಚಾರಿಕವಾಗಿ 1ನೇ ಆಗಸ್ಟ್ 1920 ರಂದು ಪ್ರಾರಂಭಿಸಲಾಯಿತು.
c. ಚೌರಿ-ಚೌರಾ ಘಟನೆಯ ನಂತರ ಅಸಹಕಾರ ಚಟುವಟಿಕೆ ತೀವ್ರಗೊಂಡಿತು.

ಮೇಲಿನ ಎಷ್ಟು ಹೇಳಿಕೆ/ಗಳು ಸರಿಯಾಗಿದೆ/ವ ?

- (1) ಒಂದು ಮಾತ್ರ (2) ಎರಡು ಮಾತ್ರ
(3) ಎಲ್ಲ ಮೂರು (4) ಯಾವುದೂ ಇಲ್ಲ

20. ಸೈಮನ್ ಆಯೋಗಕ್ಕೆ ಸಂಬಂಧಿಸಿದಂತೆ, ಈ ಕೆಳಗಿನ ಹೇಳಿಕೆಗಳನ್ನು ಪರಿಗಣಿಸಿ :

- a. ಆಯೋಗವು ಯಾವುದೇ ಭಾರತೀಯ ನದಸ್ಯರನ್ನು ಒಳಗೊಂಡಿಲ್ಲದ ಕಾರಣ ಭಾರತೀಯರು ಅದನ್ನು ಬಹಿಷ್ಕರಿಸಿದರು.
b. 1919 ರ ಭಾರತ ಸರ್ಕಾರದ ಕಾಯಿದೆಯ ಕಾರ್ಯನಿರ್ವಹಣೆಯನ್ನು ಪರಿಶೀಲಿಸಲು ಈ ಆಯೋಗವನ್ನು ರಚಿಸಲಾಗಿತ್ತು.
c. ಸೈಮನ್ ಆಯೋಗದ ಶಿಫಾರಸ್ಸುಗಳನ್ನು ಕಾಂಗ್ರೆಸ್ ಬೆಂಬಲಿಸಿತು.

ಈ ಮೇಲೆ ನೀಡಲಾಗಿರುವ ಹೇಳಿಕೆಗಳಲ್ಲಿ ಯಾವುವು ಸರಿಯಾಗಿವೆ?

- (1) a ಮತ್ತು b ಮಾತ್ರ (2) b ಮತ್ತು c ಮಾತ್ರ
(3) a ಮತ್ತು c ಮಾತ್ರ (4) a, b ಮತ್ತು c

Space for Rough Work / ಕಚ್ಚಾ ಕೆಲಸಕ್ಕೆ ಸ್ಥಳ

21. With reference to the Round Table Conference, consider the following pairs :

<i>Participants</i>	<i>Represented Party</i>
a. C.R. Das	: Swaraj Party
b. B.S. Moonje	: Hindu Mahasabha
c. Tej Bahadur Sapru	: Liberals

Which of the pairs given above are correctly matched ?

- (1) a and b only
- (2) b and c only
- (3) a and c only
- (4) a, b and c

22. Consider the following pairs with relation to British Acts :

a. Vernacular Press Act	: Suppression of Indian newspapers
b. Ilbert Bill	: Allowed Indian judges to try British offenders
c. Rowlatt Act	: Prohibition of public gatherings
d. Minto-Morley Reforms	: Introduction of Dyarchy in provinces.

How many of the above pair/pairs is/are correctly matched ?

- (1) Only one
- (2) Only two
- (3) Only three
- (4) All four

Space for Rough Work / ಈಗಾಗಲೇ ಕೆಲಸಕ್ಕೆ ಸ್ಥಳ

SWD1201UP25

(10 - C1)

21. ದುಂದು ಮೇಲಿನ ಪರಿಷತ್ ಗೆ ಸಂಬಂಧಿಸಿದಂತೆ, ಈ ಕೆಳಗಿನ ಜೋಡಿಗಳನ್ನು ಪರಿಗಣಿಸಿ :
ಭಾಗವಹಿಸಿದವರು ಪ್ರತಿನಿಧಿಸಿದ ಪಕ್ಷ

a. ಸಿ.ಆರ್. ದಾಸ್	: ಸ್ವರಾಜ್ ಪಕ್ಷ
b. ಬಿ.ಎಸ್. ಮುಂಜೆ	: ಹಿಂದೂ ಮಹಾಸಭಾ
c. ತೇಜ್ ಬಹಾದೂರ್ ಸಪ್ರು	: ಲಿಬರಲ್ಸ್

ಈ ಮೇಲಿನ ಯಾವ ಜೋಡಿಗಳು ಸರಿಯಾಗಿ ಹೊಂದಿಕೆಯಾಗಿವೆ?

- (1) a ಮತ್ತು b ಮಾತ್ರ
- (2) b ಮತ್ತು c ಮಾತ್ರ
- (3) a ಮತ್ತು c ಮಾತ್ರ
- (4) a, b ಮತ್ತು c

22. ಬ್ರಿಟಿಷ್ ಕಾಯಿದೆಗಳಿಗೆ ಸಂಬಂಧಿಸಿದಂತೆ ಈ ಕೆಳಗಿನ ಜೋಡಿಗಳನ್ನು ಪರಿಗಣಿಸಿ :

a. ದೇಶೀಯ ಪತ್ರಿಕಾ ಕಾಯ್ದೆ	: ಭಾರತೀಯ ಪತ್ರಿಕೆಗಳ ದಮನ
b. ಇಲ್ಬರ್ಟ್ ಮಸೂದೆ	: ಭಾರತೀಯ ನ್ಯಾಯಾಧಿಕಾರಿಗಳಿಗೆ ಬ್ರಿಟಿಷ್ ಅಪರಾಧಿಗಳನ್ನು ವಿಚಾರಣೆಗೆ ಒಳಪಡಿಸುವ ಅಧಿಕಾರ
c. ರೌಲಟ್ ಕಾಯ್ದೆ	: ಸಾರ್ವಜನಿಕ ಸಭೆ ನಿಷೇಧ
d. ಮಿಂಟೊ-ಮೋರ್ಲೆ ಸುಧಾರಣೆ	: ಪ್ರಾಂತ್ಯಗಳಲ್ಲಿ ದ್ವಿರಾಜ್ಯದ (ಡೈಯಾಕಿಯಿ) ಪರಿಚಯ

ಈ ಮೇಲಿನ ಎಷ್ಟು ಜೋಡಿ/ಜೋಡಿಗಳು ಸರಿಯಾಗಿ ಹೊಂದಿಕೆಯಾಗಿವೆ/ಹೊಂದಿಕೆಯಾಗಿವೆ ?

- (1) ಒಂದು ಮಾತ್ರ
- (2) ಎರಡು ಮಾತ್ರ
- (3) ಮೂರು ಮಾತ್ರ
- (4) ಎಲ್ಲ ನಾಲ್ಕು

Space for Rough Work / ಈಗಾಗಲೇ ಕೆಲಸಕ್ಕೆ ಸ್ಥಳ

SWD1201UP25

(11 - C1)

3. Which of the following statements are correct with respect to former Prime Minister Manmohan Singh ?

- He has served as RBI Governor.
- He has served as the Finance Minister in the Central Government.
- He is the recipient of Padma Vibhushana award.
- He was elected to the Rajya Sabha from Assam.

Codes :

- | | |
|----------------|-------------------|
| (1) a, d and c | (2) c, d and b |
| (3) a, b and d | (4) a, b, c and d |

4. Name the Indian who has been chosen for the 'Champions of the Earth' award for the year 2024, given by UNEP.

- Vandana Shiva
- Shaktikanta Das
- Kasturirangan
- Madhav Gadgil

Which of the following statements are correct with respect to 'Bima Sakhi' Scheme ?

- Under this scheme, during the upcoming 3 years, 2 lakh women Bima agents will be appointed.
- This is a scheme of LIC.
- This scheme has 3 years training period and during this period stipend will be given.
- The women who have passed 10th standard and are in the age group of 18 – 70 years are eligible for this scheme.

Codes :

- a, b and c
- d, c and b
- c, d and a
- a, b, c and d

Space for Rough Work / ಕಚ್ಚಾ ಕೆಲಸಕ್ಕೆ ಸ್ಥಳ

23. ಮಾಜಿ ಪ್ರಧಾನಿ ಮನಮೋಹನ್ ಸಿಂಗ್ ರವರನ್ನು ಕುರಿತ ಈ ಕೆಳಗಿನ ಯಾವ ಹೇಳಿಕೆಗಳು ಸರಿಯಾಗಿವೆ ?

- ಆರ್‌ಬಿಐ ಗವರ್ನರ್ ಆಗಿ ಕಾರ್ಯನಿರ್ವಹಿಸಿರುತ್ತಾರೆ.
- ಕೇಂದ್ರ ಸರ್ಕಾರದ ಹಣಕಾಸು ಸಚಿವರಾಗಿ ಕಾರ್ಯನಿರ್ವಹಿಸಿರುತ್ತಾರೆ.
- ಪದ್ಮವಿಭೂಷಣ ಪ್ರಶಸ್ತಿ ಪುರಸ್ಕೃತರು.
- ಇವರು ಅಸ್ಸಾಂನಿಂದ ರಾಜ್ಯಸಭೆಗೆ ಆಯ್ಕೆಯಾಗಿದ್ದರು.

ಕೋಡ್‌ಗಳು :

- | | |
|------------------|---------------------|
| (1) a, d ಮತ್ತು c | (2) c, d ಮತ್ತು b |
| (3) a, b ಮತ್ತು d | (4) a, b, c ಮತ್ತು d |

24. ಯುಎನ್‌ಇಪಿಯಿಂದ ನೀಡಲ್ಪಡುವ, 2024 ನೇ ಸಾಲಿನ ಚಾಂಪಿಯನ್ಸ್ ಆಫ್ ದಿ ಆರ್ಡ್ ಪ್ರಶಸ್ತಿಗೆ ಭಾರತದಿಂದ ಭಾರತೀಯರನ್ನು ಹೆಸರಿಸಿ.

- ವಂದನಾ ಶಿವ
- ಶಕ್ತಿಕಾಂತ್ ದಾಸ್
- ಕಸ್ತೂರಿರಂಗನ್
- ಮಾಧವ್ ಗಾಡ್ಗಿಲ್

25. 'ಬೀಮಾ ಸಖಿ' ಯೋಜನೆಗೆ ಸಂಬಂಧಿಸಿದಂತೆ ಈ ಕೆಳಗಿನ ಯಾವ ಹೇಳಿಕೆಗಳು ಸರಿಯಾಗಿವೆ ?

- ಈ ಯೋಜನೆಯಡಿ ಮುಂದಿನ 3 ವರ್ಷಗಳಲ್ಲಿ 2 ಲಕ್ಷ ಮಹಿಳಾ ಬೀಮಾ ಎಜೆಂಟ್‌ಗಳನ್ನು ನೇಮಕಿಸಲಾಗುವುದು.
- ಇದು ಎಲ್ ಐ ಸಿ ಯ ಒಂದು ಯೋಜನೆಯಾಗಿದೆ.
- ಇದು 3 ವರ್ಷದ ತರಬೇತಿ ಅವಧಿಯನ್ನು ಒಳಗೊಂಡಿದೆ. ಈ ಅವಧಿಯಲ್ಲಿ ವಿಕೇಷ ತರಬೇತಿ ಪಡೆಯುತ್ತಿರುವವರು ನೇಮಕಿಸಲಾಗುವುದು.
- 10ನೇ ತರಗತಿ ಪೂರೈಸಿದ, 18 – 70 ವರ್ಷ ವಯಸ್ಸಿನ ಮಹಿಳೆಯರಲ್ಲೂ ಈ ಯೋಜನೆಗೆ ಅರ್ಹತೆಯಿರುತ್ತದೆ.

ಕೋಡ್‌ಗಳು :

- a, b ಮತ್ತು c
- d, c ಮತ್ತು b
- c, d ಮತ್ತು a
- a, b, c ಮತ್ತು d

Space for Rough Work / ಕಚ್ಚಾ ಕೆಲಸಕ್ಕೆ ಸ್ಥಳ

26. Consider the following statements related to 'Antariksha Abhyas'.
- It is a space exercise conducted by Indian Space Research Organisation (ISRO).
 - It aims to provide enhanced understanding of space-based assets and services.
 - It has Army, Navy, Air force and Defence Space Agency as participants.
 - It is the first of its kind to be organised in 2025.

How many above the statement/statements is/are correct ?

- | | |
|----------------------------------|-----------------------|
| (1) All four of them are correct | (2) Only c is correct |
| (3) Only b is correct | (4) Only a is correct |

27. Which of the following book/books is/are *not* written by Kanaka Dasa ?

- Nala Damayanti
- Ramadhanya Charite
- Nrisimhastava
- Sri Rama Parikshanam
- Haribhaktisara

Codes :

- | | |
|------------------|------------|
| (1) a and d only | (2) e only |
| (3) b and c only | (4) d only |

28. Ustad Zakir Hussain with which of the following Indian musicians had won Grammy Award in the "Best Global Music Album" category in 2024 for their album "The Moment" ?

- | | |
|------------------|-----------------------|
| (1) Arijit Singh | (2) Shankar Mahadevan |
| (3) Sonu Nigam | (4) Shreya Ghoshal |

29. Which among the following recommendation is *not* related to Balwantrao Mehta Committee ?

- 2-tier Panchayat Raj system
- Gram Panchayat which has directly elected members
- District Collector should be the President of Zilla Panchayat
- Planning and development activities should be given to local governments

Space for Rough Work / ಕಚ್ಚಾ ಕೆಲಸಕ್ಕೆ ಸ್ಥಳ

SWD1201UP25

(14 - C1)

26. 'ಅಂತರಿಕ್ಷ ಅಭ್ಯಾಸಕ್ಕೆ ಸಂಬಂಧಿಸಿದ ಈ ಕೆಳಗಿನ ಹೇಳಿಕೆಗಳನ್ನು ಪರಿಗಣಿಸಿ.

- ಇದು ಭಾರತೀಯ ಬಾಹ್ಯಾಕಾಶ ಸಂಶೋಧನಾ ಸಂಸ್ಥೆ (ISRO) ನಡವುಡ ಬಾಹ್ಯಾಕಾಶ ಅಭ್ಯಾಸವಾಗಿದೆ.
- ಇದು ಬಾಹ್ಯಾಕಾಶ-ಆಧಾರಿತ ಸ್ವತ್ತುಗಳು ಮತ್ತು ಸೇವೆಗಳ ಕುರಿತು ಹೆಚ್ಚಿನ ತಿಳುವಳಿಕೆಯನ್ನು ನೀಡುವ ಗುರಿಯನ್ನು ಹೊಂದಿದೆ.
- ಇದು ಭೂಸೇನೆ, ನೌಕಾಸೇನೆ, ವಾಯುಸೇನೆ ಮತ್ತು ಬಾಹ್ಯಾಕಾಶ ರಕ್ಷಣಾ ಎಲೆನ್ಸಿಗಲನ್ನು ಛಾೀದಾರರನ್ನಾಗಿ ಹೊಂದಿದೆ.
- 2025 ರಲ್ಲಿ ಇದನ್ನು ಪ್ರಥಮ ಬಾರಿಗೆ ಆಯೋಜಿಸಲಾಗುತ್ತಿದೆ.

ಮೇಲಿನ ಏಪ್ಪು ಹೇಳಿಕೆ/ಹೇಳಿಕೆಗಳು ಸರಿಯಾಗಿದೆ/ಸರಿಯಾಗಿವೆ ?

- | | |
|----------------------|----------------------|
| (1) ನಾಲ್ಕೂ ಸರಿಯಾಗಿವೆ | (2) ಕೇವಲ e ಸರಿಯಾಗಿದೆ |
| (3) ಕೇವಲ b ಸರಿಯಾಗಿದೆ | (4) ಕೇವಲ a ಸರಿಯಾಗಿದೆ |

27. ಕನಕದಾಸರಿಂದ ಈ ಕೆಳಗಿನ ಯಾವ ಕೃತಿ/ಕೃತಿಗಳು ರಚಿತವಾಗಿಲ್ಲ ?

- ನಳ ದಮಯಂತಿ
- ರಾಮಧಾನ್ಯ ಚರಿತೆ
- ನೃಸಿಂಹಸ್ತವ
- ಶ್ರೀರಾಮ ಪರೀಕ್ಷಣಂ
- ಹರಿಭಕ್ತಿಸಾರ

ಕೋಡ್ಗಳು :

- | | |
|---------------------|-------------|
| (1) a ಮತ್ತು d ಮಾತ್ರ | (2) e ಮಾತ್ರ |
| (3) b ಮತ್ತು c ಮಾತ್ರ | (4) d ಮಾತ್ರ |

28. ಉಸ್ತಾದ್ ಝಾಕೀರ್ ಹುಸೇನರು ಈ ಕೆಳಗಿನ ಯಾವ ಭಾರತೀಯ ಸಂಗೀತಗಾರರೊಂದಿಗೆ 2024 ರಲ್ಲಿ ಸಾರಿದ "ಏಕ್ ಮೊಹಂತ ಮೂಸಿಕ್ ಆಲ್ಬಂ" ವಿಭಾಗದಲ್ಲಿ ತಮ್ಮ "ಏಕ್ ಮೊಹಂತ" ಆಲ್ಬಂಗೆ ಗ್ರಾಢಿ ಪ್ರಶಸ್ತಿ ಗಳಿಸಿದ್ದರು ?

- | | |
|-------------------|--------------------|
| (1) ಅರ್ಜಿತ್ ಸಿಂಗ್ | (2) ಶಂಕರ್ ಮಹಾಡೇವನ್ |
| (3) ಸೋನು ನಿಗಮ್ | (4) ಶ್ರೇಯಾ ಗೋಷಲ್ |

29. ಈ ಕೆಳಗಿನವುಗಳಲ್ಲಿ ಯಾವ ಶಿಫಾರಸ್ಸು ಒಲವಂತರಾಯ್ ಮತ್ತು ಸಮಿತಿಗೆ ಸಂಬಂಧಿಸಿಲ್ಲ ?

- 2-ಹಂತದ ಪಂಚಾಯತ್ ರಾಜ್ ವ್ಯವಸ್ಥೆ
- ನೇರವಾಗಿ ಚುನಾಯಿಸಲ್ಪಟ್ಟ ಸದಸ್ಯರನ್ನೂ ಳಗೊಂಡ ಗ್ರಾಢಿಪಂಚಾಯ್ತಿ
- ಜಿಲ್ಲಾಧಿಕಾರಿಗಳು ಜಿಲ್ಲಾ ಪಂಚಾಯತ್ ನ ಅಧ್ಯಕ್ಷರಾಗಿರಬೇಕು
- ಯೋಜನ ಮತ್ತು ಅಭಿವೃದ್ಧಿ ಚಟುವಟಿಕೆಗಳನ್ನು ಸ್ಥಳೀಯ ಸರ್ಕಾರಗಳಿಗೆ ನೀಡಬೇಕು

Space for Rough Work / ಕಚ್ಚಾ ಕೆಲಸಕ್ಕೆ ಸ್ಥಳ

SWD1201UP25

(15 - C1)

30. Election Commission of India releases a theme statement every year on 25th January on the occasion of 'National Voters Day'. Regarding this, which statement among the following is wrong ?

- (1) 2024 – "Nothing like voting. I vote for sure"
- (2) 2022 – "Making elections inclusive, accessible and participative"
- (3) 2021 – "Ethical voting"
- (4) 2020 – "Electoral Literacy for Stronger Democracy"

31. Which among the following committee is *not* related to electoral reforms ?

- (1) Indrajit Gupta Committee
- (2) Jayaprakash Narayan Committee
- (3) Tarkunde Committee
- (4) A. Narayana Pai Committee

32. Which among the following committee/committees is/are related to Panchayat Raj system ?

- | | |
|---------------------------|-----------------------------|
| a. Ashok Mehta Committee | b. P.K. Thungan Committee |
| c. Swaran Singh Committee | d. Veerappa Moily Committee |

- | | |
|-------------|-------------------|
| (1) a only | (2) a, c and d |
| (3) a and b | (4) a, b, c and d |

33. Match the following National Commissions and Chairpersons.

a. National Human Rights Commission	i. Justice Ranganath Misra
b. National Commission for Women	ii. Jayanti Patnaik
c. National Commission for Minorities	iii. Justice Mohammad Sardar Ali Khan
d. National Commission for Protection of Child Rights	iv. Dr. Shantha Sinha

Select the correct answer using the codes given below :

- | | |
|----------------------------|----------------------------|
| (1) a-i, b-iii, c-ii, d-iv | (2) a-iv, b-i, c-iii, d-ii |
| (3) a-i, b-ii, c-iii, d-iv | (4) a-iii, b-iv, c-i, d-ii |

Space for Rough Work / ಠಕ್ಕಾ ಠುಸಕ್ಕ ಸ್ಥಳ

30. ಭಾರತದ ಚುನಾವಣಾ ಆಯೋಗವು ಪ್ರತಿವರ್ಷ ಜನವರಿ 25 ರಂದು 'ರಾಷ್ಟ್ರೀಯ ಮತದಾರರ ದಿನಾಚರಣೆ' ಸಂಬಂಧಿಸಿದಂತೆ ಹೊರಡಿಸುವ ಘೋಷ ವಾಕ್ಯಕ್ಕೆ ಸಂಬಂಧಿಸಿದಂತೆ ಈ ಕೆಳಗಿನ ಯಾವುದು ತಪ್ಪಾಗಿದೆ ?

- (1) 2024 – "ಮತದಾನಕ್ಕಿಂತ ಮತ್ತೊಂದಿಲ್ಲ. ನಾನು ಖಚಿತವಾಗಿ ಮತದಾನ ಮಾಡುವೆ"
- (2) 2022 – "ಚುನಾವಣೆಗಳಲ್ಲಿ ಒಳಗೊಳ್ಳುವಿಕೆ, ಲಭ್ಯತೆ ಹಾಗೂ ಭಾಗವಹಿಸುವಿಕೆ ಇವುಗಳ ಮೂಲಕ ಮಾಡುವುದು"
- (3) 2021 – "ನೈತಿಕ ಮತದಾನ"
- (4) 2020 – "ಸದೃಢ ಪ್ರಜಾಪ್ರಭುತ್ವಕ್ಕಾಗಿ ಚುನಾವಣಾ ಸಾಕ್ಷರತೆ"

31. ಈ ಕೆಳಗಿನ ಯಾವ ಸಮಿತಿಯು ಚುನಾವಣಾ ಸುಧಾರಣೆಗೆ ಸಂಬಂಧಿಸಿದುದಲ್ಲ ?

- (1) ಇಂದ್ರಜಿತ್ ಗುಪ್ತಾ ಸಮಿತಿ
- (2) ಜಯಪ್ರಕಾಶ್ ನಾರಾಯಣ ಸಮಿತಿ
- (3) ತಾರ್ಕುಂಡೆ ಸಮಿತಿ
- (4) ಎ. ನಾರಾಯಣ ಪೈ ಸಮಿತಿ

32. ಈ ಕೆಳಗಿನ ಸಮಿತಿಗಳಲ್ಲಿ ಪಂಚಾಯತ್ ರಾಜ್ ವ್ಯವಸ್ಥೆಗೆ ಸಂಬಂಧಿಸಿದ ಸಮಿತಿ/ಸಮಿತಿಗಳು ಯಾವುದು/ಯಾವುದು ?

- | | |
|------------------------|------------------------|
| a. ಅಶೋಕ್ ಮಹಾ ಸಮಿತಿ | b. ಪಿ.ಕೆ. ತುಂಗನ್ ಸಮಿತಿ |
| c. ಸ್ವರಾಜ್ ಸಿಂಗ್ ಸಮಿತಿ | d. ವೀರಪ್ಪ ಮೊಯಿ ಸಮಿತಿ |

- | | |
|---------------|---------------------|
| (1) a ಮಾತ್ರ | (2) a, c ಮತ್ತು d |
| (3) a ಮತ್ತು b | (4) a, b, c ಮತ್ತು d |

33. ಈ ಕೆಳಗಿನ ರಾಷ್ಟ್ರೀಯ ಆಯೋಗಗಳು ಮತ್ತು ಅಧ್ಯಕ್ಷರುಗಳನ್ನು ಹೊಂದಿಸಿ.

a. ರಾಷ್ಟ್ರೀಯ ಮಾನವ ಹಕ್ಕುಗಳ ಆಯೋಗ	i. ನ್ಯಾಯಮೂರ್ತಿ ರಂಗನಾಥ ಮಿಶ್ರಾ
b. ರಾಷ್ಟ್ರೀಯ ಮಹಿಳಾ ಆಯೋಗ	ii. ಜಯಂತಿ ಪಟ್ಟಾಯಿಕ್
c. ರಾಷ್ಟ್ರೀಯ ಅಲ್ಪ ಸಂಖ್ಯಾತರ ಆಯೋಗ	iii. ನ್ಯಾಯಮೂರ್ತಿ ಸದಾಶಿವ್ ಅಲಿ ಖಾನ್
d. ರಾಷ್ಟ್ರೀಯ ಮಕ್ಕಳ ಹಕ್ಕುಗಳ ರಕ್ಷಣಾ ಆಯೋಗ	iv. ಡಾ. ಶಾಂತಾ ಸಿನ್ಹಾ

ಕೆಳಗಿನ ಕೋಡ್ ಬಳಸಿ ಸರಿಯಾದ ಉತ್ತರವನ್ನು ಆಯ್ಕೆಮಾಡಿ :

- | | |
|----------------------------|----------------------------|
| (1) a-i, b-iii, c-ii, d-iv | (2) a-iv, b-i, c-iii, d-ii |
| (3) a-i, b-ii, c-iii, d-iv | (4) a-iii, b-iv, c-i, d-ii |

Space for Rough Work / ಠಕ್ಕಾ ಠುಸಕ್ಕ ಸ್ಥಳ

34. Consider the following statements :

Statement I : The foreign policy of India is opposed to arms race and advocates disarmament.

Statement II : India has not signed NPT of 1968 and CTBT of 1996, opposing both treaties.

Which one of the following is correct in respect of the above statements ?

- (1) Both Statement I and Statement II are correct and Statement II is related to Statement I.
- (2) Both Statement I and Statement II are correct but Statement II is not related to Statement I.
- (3) Statement I is correct, but Statement II is incorrect.
- (4) Statement I is incorrect, but Statement II is correct.

35. Which among the following political party/parties is/are considered as a National Political Party/Parties ?

- a. Aam Admi Party (AAP)
- b. Janata Dal (United) (JD(U))
- c. All India Trinamool Congress (AITC)

d. Lok Janshakti Party (LJP)

Select the correct answer using the codes given below :

- (1) a only
- (2) b only
- (3) a and c
- (4) b, c and d

36. In which Indian state is the first Buddhist University located ?

- (1) Karnataka
- (2) Uttar Pradesh
- (3) Bihar
- (4) Maharashtra

37. Which of the following political party represented the interests of Hindu, Muslim and Sikh landlords in Punjab during 1923 - 1947 ?

- (1) Muslim League
- (2) Congress Party
- (3) Swaraj Party
- (4) Unionist Party

Space for Rough Work / ಕಚ್ಚಾ ಕೆಲಸಕ್ಕೆ ಸ್ಥಳ

SWD1201UP25

(18 - C1)

34. ಕೆಳಗಿನ ಹೇಳಿಕೆಗಳನ್ನು ಪರಿಗಣಿಸಿ :

ಹೇಳಿಕೆ I : ಭಾರತದ ವಿದೇಶಾಂಗ ನೀತಿಯು ಶಸ್ತ್ರಾಸ್ತ್ರ ಸ್ಪರ್ಧೆಯನ್ನು ವಿರೋಧಿಸುತ್ತದೆ ಮತ್ತು ನಿಶ್ಚಸ್ತ್ರೀಕರಣವನ್ನು ಪ್ರತಿಪಾದಿಸುತ್ತದೆ.

ಹೇಳಿಕೆ II : ಭಾರತವು ಎನ್ ಪಿ ಟಿ 1968 ಮತ್ತು ಸಿ ಟಿ ಟಿ 1996 ರ ಒಪ್ಪಂದಗಳೆರಡನ್ನೂ ವಿರೋಧಿಸಿ ಸಹಿ ಮಾಡಲಿಲ್ಲ. ಮೇಲಿನ ಹೇಳಿಕೆಗಳಿಗೆ ಸಂಬಂಧಿಸಿದಂತೆ ಈ ಕೆಳಗಿನವುಗಳಲ್ಲಿ ಸರಿಯಾದ ಉತ್ತರ ಯಾವುದೆಂದು ಆಯ್ಕೆ ಮಾಡಿ.

- (1) ಹೇಳಿಕೆ I ಮತ್ತು ಹೇಳಿಕೆ II ಎರಡೂ ಸರಿಯಾಗಿವೆ ಮತ್ತು ಹೇಳಿಕೆ II, ಹೇಳಿಕೆ I ಕ್ಕೆ ಸಂಬಂಧಿಸಿದೆ.
- (2) ಹೇಳಿಕೆ I ಮತ್ತು ಹೇಳಿಕೆ II ಎರಡೂ ಸರಿಯಾಗಿವೆ ಆದರೆ ಹೇಳಿಕೆ II, ಹೇಳಿಕೆ I ಕ್ಕೆ ಸಂಬಂಧಿಸಿಲ್ಲ.
- (3) ಹೇಳಿಕೆ I ಸರಿಯಾಗಿದೆ, ಆದರೆ ಹೇಳಿಕೆ II ಸರಿಯಾಗಿಲ್ಲ.
- (4) ಹೇಳಿಕೆ I ಸರಿಯಾಗಿಲ್ಲ, ಆದರೆ ಹೇಳಿಕೆ II ಸರಿಯಾಗಿದೆ.

35. ಕೆಳಕಂಡ ರಾಜಕೀಯ ಪಕ್ಷಗಳಲ್ಲಿ ಯಾವ ಪಕ್ಷವನ್ನು/ಪಕ್ಷಗಳನ್ನು ರಾಷ್ಟ್ರೀಯ ಪಕ್ಷವೆಂದು/ಪಕ್ಷಗಳೆಂದು ಪರಿಗಣಿಸಲಾಗಿದೆ?

- a. ಆಮ್ ಆದ್ಮಿ ಪಕ್ಷ (AAP)
- b. ಜನತಾ ದಳ (ಸಂಯುಕ್ತ) (JD(U))
- c. ಆಖಿಲ ಭಾರತ ತೃಣ ಮೂಲ ಕಾಂಗ್ರೆಸ್ (AITC)
- d. ಲೋಕ ಜನಶಕ್ತಿ ಪಕ್ಷ (LJP)

ಕೆಳಗಿನ ಸಂಕೇತಗಳನ್ನು ಉಪಯೋಗಿಸಿಕೊಂಡು ಸರಿಯಾದ ಉತ್ತರವನ್ನು ಆಯ್ಕೆ ಮಾಡಿ :

- (1) a ಮಾತ್ರ
- (2) b ಮಾತ್ರ
- (3) a ಮತ್ತು c
- (4) b, c ಮತ್ತು d

36. ಭಾರತದ ಯಾವ ರಾಜ್ಯದಲ್ಲಿ ಪ್ರಥಮ ಬೌದ್ಧ ವಿಶ್ವವಿದ್ಯಾಲಯವನ್ನು ಸ್ಥಾಪಿಸಲಾಗಿದೆ ?

- (1) ಕರ್ನಾಟಕ
- (2) ಉತ್ತರ ಪ್ರದೇಶ
- (3) ಬಿಹಾರ್
- (4) ಮಹಾರಾಷ್ಟ್ರ

37. ಈ ಕೆಳಗಿನ ಯಾವ ರಾಜಕೀಯ ಪಕ್ಷ 1923 - 1947 ರ ಅವಧಿಯಲ್ಲಿ ಪಂಜಾಬಿನಲ್ಲಿ, ಹಿಂದೂ, ಮುಸ್ಲಿಂ, ಸಿಖ್ ಒಕ್ಕೂಟದ ಹಿತಾಸಕ್ತಿಗಳನ್ನು ಪ್ರತಿನಿಧಿಸಿತ್ತು ?

- (1) ಮುಸ್ಲಿಂ ಲೀಗ್
- (2) ಕಾಂಗ್ರೆಸ್ ಪಕ್ಷ
- (3) ಸ್ವರಾಜ್ ಪಕ್ಷ
- (4) ಯೂನಿಯನಿಸ್ಟ್ ಪಕ್ಷ

Space for Rough Work / ಕಚ್ಚಾ ಕೆಲಸಕ್ಕೆ ಸ್ಥಳ

SWD1201UP25

(19 - C1)

38. Match the following HTTP status codes to their respective details :

a. 400	i. OK
b. 500	ii. NOT FOUND
c. 200	iii. CONTINUE
d. 100	iv. INTERNAL SERVER ERROR

Codes :

- (1) a-i, b-ii, c-iii, d-iv (2) b-i, a-ii, c-iii, d-iv
(3) b-i, c-ii, a-iii, d-iv (4) b-i, d-ii, a-iii, c-iv

39. "in" in https://www.karnataka.gov.in refers to _____

- (1) inside (2) indic (3) India (4) ind

40. Which of the following statement/statements is/are correct ?

- a. Article 75 – Appointment of the Prime Minister
b. Article 78 – Duties and functions of the Prime Minister
c. Article 64 – Vice-President is ex-officio Chairman of the Rajya Sabha
d. Article 74 – Impeachment of the President

Select the correct answer from the options given below :

- (1) a only (2) b only
(3) a and c only (4) a, b and c only

41. Identify the unitary features of the Indian Constitution.

- a. Strong Central Government
b. Single Constitution
c. President's veto over State bills
d. Rigid Constitution
e. Appointment of Governors

Codes :

- (1) a and b only (2) b and d only
(3) a, b, c and e only (4) c and d only

Space for Rough Work / ಕಚ್ಚಾ ಕೆಲಸಕ್ಕೆ ಸ್ಥಳ

SWD1201UP25

(20 - C1)

38. ಈ ಕೆಳಗಿನ ಹೆಚ್ ಟಿ ಟಿ ಪಿ ಸ್ಟೇಟಸ್‌ಕೋಡ್ ಗಳನ್ನು ಅವುಗಳ ವಿವರಣೆಯೊಂದಿಗೆ ಹೊಂದಿಸಿರಿ :

a. 400	i. ಓಕೆ
b. 500	ii. ನಾಟ್ ಫೌಂಡ್
c. 200	iii. ಕಂಟಿನ್ಯೂ
d. 100	iv. ಇಂಟರ್ನಲ್ ಸರ್ವರ್ ಎರರ್

ಕೋಡ್‌ಗಳು :

- (1) a-i, b-ii, c-iii, d-iv (2) b-i, a-ii, c-iii, d-iv
(3) b-i, c-ii, a-iii, d-iv (4) b-i, d-ii, a-iii, c-iv

39. https://www.karnataka.gov.in ನಲ್ಲಿ "in" ----- ಅನ್ನು ಸೂಚಿಸುತ್ತದೆ.

- (1) ಇನ್‌ಸೈಡ್ (2) ಇಂಡಿಕ್ (3) ಇಂಡಿಯಾ (4) ಇಂಡ್

40. ಕೆಳಗಿನ ಹೇಳಿಕೆಗಳಲ್ಲಿ ಯಾವುದು/ವು ಸರಿಯಾಗಿದೆ/ವೆ ?

- a. 75ನೇ ವಿಧಿ – ಪ್ರಧಾನಮಂತ್ರಿಗಳ ನೇಮಕ
b. 78ನೇ ವಿಧಿ – ಪ್ರಧಾನ ಮಂತ್ರಿಗಳ ಕರ್ತವ್ಯಗಳು ಹಾಗೂ ಕಾರ್ಯಗಳು
c. 64ನೇ ವಿಧಿ – ಉಪರಾಷ್ಟ್ರಪತಿಗಳು ರಾಜ್ಯಸಭೆಯ ಪದನಿಮಿತ್ತ ಅಧ್ಯಕ್ಷರಾಗಿರುತ್ತಾರೆ
d. 74ನೇ ವಿಧಿ – ರಾಷ್ಟ್ರಪತಿಗಳ ಮಹಾಭಿಯೋಗ

ಕೆಳಗೆ ನೀಡಿದ ಆಯ್ಕೆಗಳಿಂದ ಸರಿಯಾದ ಉತ್ತರ ಆಯ್ಕೆಮಾಡಿ :

- (1) a ಮಾತ್ರ (2) b ಮಾತ್ರ
(3) a ಮತ್ತು c ಮಾತ್ರ (4) a, b ಮತ್ತು c ಮಾತ್ರ

41. ಭಾರತ ಸಂವಿಧಾನದ ಏಕೀಕೃತ ವ್ಯವಸ್ಥೆಯ ಲಕ್ಷಣಗಳನ್ನು ಗುರುತಿಸಿ.

- a. ಬಲಿಷ್ಠ ಕೇಂದ್ರ ಸರ್ಕಾರ
b. ಏಕ ಸಂವಿಧಾನ
c. ರಾಜ್ಯಗಳ ಮಸೂದೆಗಳ ಮೇಲೆ ರಾಷ್ಟ್ರಪತಿಗಳ ವಿಟೋ ಅಧಿಕಾರ
d. ಅನಮ್ಯ (ರಿಜಿಡ್) ಸಂವಿಧಾನ
e. ರಾಜ್ಯಪಾಲರುಗಳ ನೇಮಕ

ಕೋಡ್‌ಗಳು :

- (1) a ಮತ್ತು b ಮಾತ್ರ (2) b ಮತ್ತು d ಮಾತ್ರ
(3) a, b, c ಮತ್ತು e ಮಾತ್ರ (4) c ಮತ್ತು d ಮಾತ್ರ

Space for Rough Work / ಕಚ್ಚಾ ಕೆಲಸಕ್ಕೆ ಸ್ಥಳ

SWD1201UP25

(21 - C1)

42. The Parliament of India passed the Chief Election Commissioner and Other Election Commissioners (Appointment, Conditions of Service and Term of Office) Bill, 2023. According to this bill, the selection committee to select Chief Election Commissioner comprises :

- (1) Prime Minister, Leader of Opposition in Lok Sabha and one Central Cabinet Minister
- (2) Prime Minister, Leader of Opposition in Lok Sabha and Chief Ministers of all States
- (3) Prime Minister and Foreign Affairs Minister
- (4) Home Minister and Law Minister

43. Which Mughal king gave the title 'Raja Jagadeva' to Chikkadevaraja Wodeyar ?

- (1) Bahadur Shah-I
- (2) Farrukh Siyar
- (3) Shahjahan
- (4) Aurangzeb

44. Q, W, E, R, T, Y and U are sitting in a row facing North :

- a. Y is to the immediate right of T.
- b. T is fourth to the right of U.
- c. E is the neighbour of W and R.
- d. The person who is third to the left of R is at one of the ends.

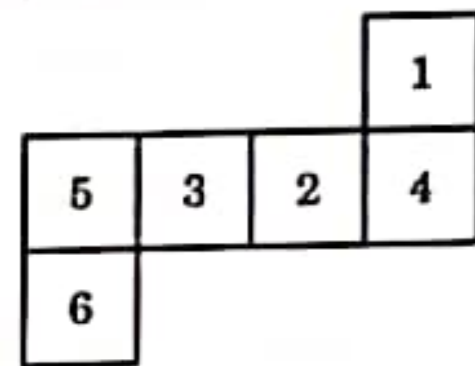
Who is/are to the left of E ?

- (1) Only W
- (2) U and W
- (3) R and T
- (4) Only R

45. A and B started from a fixed place. A moves 5 km to the East and then turns left, then moves 6 km and then turns right and moves 1 km. B moves 2 km towards the north, then turns right and moves 3 km. How far is A from B ?

- (1) 3 km
- (2) 4 km
- (3) 5 km
- (4) 10 km

46. When the following figure is folded into a cube, which is the only cube that can be produced among the following ?



- (1)
- (2)
- (3)
- (4)

Space for Rough Work / ಕಚ್ಚಾ ಕೆಲಸಕ್ಕೆ ಸ್ಥಳ



(22 - C1)

SWD1201UP25

42. ಮುಖ್ಯ ಚುನಾವಣಾ ಆಯುಕ್ತರು ಮತ್ತು ಚುನಾವಣಾ ಆಯುಕ್ತರ (ನೇಮಕಾತಿ ಸೇವಾ ಪದವಿಗಳು, ಅಧಿಕಾರ ಅವಧಿ) ವಿಧೇಯಕ, 2023 ಅನ್ನು ಬಾರತದ ಸಂಸತ್ತು ಅಂಗೀಕರಿಸಿತು. ಈ ವಿಧೇಯಕದ ಪ್ರಕಾರ ಮುಖ್ಯ ಚುನಾವಣಾ ಆಯುಕ್ತರನ್ನು ನೇಮಿಸುವ ಆಯ್ಕೆ ಸಮಿತಿಯು ಈ ಕೆಳಗಿನವರನ್ನು ಒಳಗೊಂಡಿರುತ್ತದೆ

- (1) ಪ್ರಧಾನ ಮಂತ್ರಿ, ಲೋಕಸಭೆಯ ವಿರೋಧ ಪಕ್ಷದ ನಾಯಕರು ಮತ್ತು ಒಬ್ಬರು ಕೇಂದ್ರ ಕ್ಯಾಬಿನೆಟ್ ಸಚಿವರು
- (2) ಪ್ರಧಾನ ಮಂತ್ರಿ, ಲೋಕಸಭೆಯ ವಿರೋಧ ಪಕ್ಷದ ನಾಯಕರು ಮತ್ತು ಎಲ್ಲಾ ರಾಜ್ಯಗಳ ಮುಖ್ಯಮಂತ್ರಿಗಳು
- (3) ಪ್ರಧಾನ ಮಂತ್ರಿ ಮತ್ತು ವಿದೇಶಾಂಗ ವ್ಯವಹಾರಗಳ ಸಚಿವ
- (4) ಗೃಹ ಸಚಿವ ಮತ್ತು ಕಾನೂನು ಸಚಿವ

43. ಚಿಕ್ಕದೇವರಾಯ ಒಡೆಯರಿಗೆ 'ರಾಜಾ ಜಗದೇವ' ಎಂಬ ಶಿರುದು ನೀಡಿದ ಮೊಘಲ್ ರೋಲ್ ಯಾರು ?

- (1) ಬಹಾದೂರ್ ಷಾಹ್-I
- (2) ಫಾರೂಕ್ ಸಿಯಾಹ್
- (3) ಪಹಜಹಾನ್
- (4) ಆರಂಗಜೇಬ್

44. Q, W, E, R, T, Y ಮತ್ತು U ಎನ್ನುವವರು ಉತ್ತರಕ್ಕೆ ಮುಖಮಾಡಿ ಸಾಲಾಗಿ ಕುಳಿತಿದ್ದಾರೆ:

- a. T ನ ತಕ್ಷಣದ ಬಲಭಾಗದಲ್ಲಿ Y ಇದ್ದಾನೆ.
- b. U ನ ಬಲಭಾಗದ 4ನೇ ಸ್ಥಾನದಲ್ಲಿ T ಇದ್ದಾನೆ.
- c. E ಯ ಅಕ್ಕಪಕ್ಕದಲ್ಲಿ W ಮತ್ತು R ಇದ್ದಾರೆ.
- d. R ನ ಎಡಭಾಗದಲ್ಲಿರುವ 3ನೇ ವ್ಯಕ್ತಿಯು ಯಾವುದಾದರೂ ಒಂದು ಬದಿಯಲ್ಲಿ ಇರುತ್ತಾನೆ.

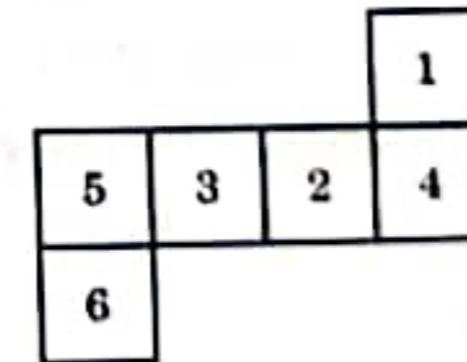
E ನ ಎಡಭಾಗದಲ್ಲಿರುವವರು ಯಾರು?

- (1) W ಮಾತ್ರ
- (2) U ಮತ್ತು W
- (3) R ಮತ್ತು T
- (4) R ಮಾತ್ರ

45. A ಮತ್ತು B ಒಂದು ನಿರ್ದಿಷ್ಟ ಸ್ಥಳದಿಂದ ಪ್ರಯಾಣ ಪ್ರಾರಂಭಿಸುತ್ತಾರೆ. A ಯು 5 ಕಿ.ಮೀ. ಪೂರ್ವಕ್ಕೆ ಪ್ರಯಾಣಿಸಿ ನಂತರ ಎಡಕ್ಕೆ ತಿರುಗಿ 6 ಕಿ.ಮೀ. ಪ್ರಯಾಣಿಸಿ, ಬಲಕ್ಕೆ ತಿರುಗಿ 1 ಕಿ.ಮೀ. ಪ್ರಯಾಣಿಸುತ್ತಾನೆ. B ಯು 2 ಕಿ.ಮೀ. ಉತ್ತರಕ್ಕೆ ಪ್ರಯಾಣಿಸಿ ಬಲಕ್ಕೆ ತಿರುಗಿ 3 ಕಿ.ಮೀ. ಪ್ರಯಾಣಿಸುತ್ತಾನೆ. A ಯು B ಯಿಂದ ಎಷ್ಟು ದೂರದಲ್ಲಿರುತ್ತಾನೆ?

- (1) 3 ಕಿ.ಮೀ.
- (2) 4 ಕಿ.ಮೀ.
- (3) 5 ಕಿ.ಮೀ.
- (4) 10 ಕಿ.ಮೀ.

46. ಈ ಕೆಳಗಿನ ಚಿತ್ರವನ್ನು ಒಂದು ಫನಾಕ್ಯಟಿಯಾಗಿ ಮಾರ್ಪಡಿಸಿದಾಗ ಈ ಕೆಳಗಿನ ಯಾವ ಫನಾಕ್ಯಟಿಯು ಮಾತ್ರ ರೂಪು ಪಡೆಯುತ್ತದೆ ?



- (1)
- (2)
- (3)
- (4)

Space for Rough Work / ಕಚ್ಚಾ ಕೆಲಸಕ್ಕೆ ಸ್ಥಳ

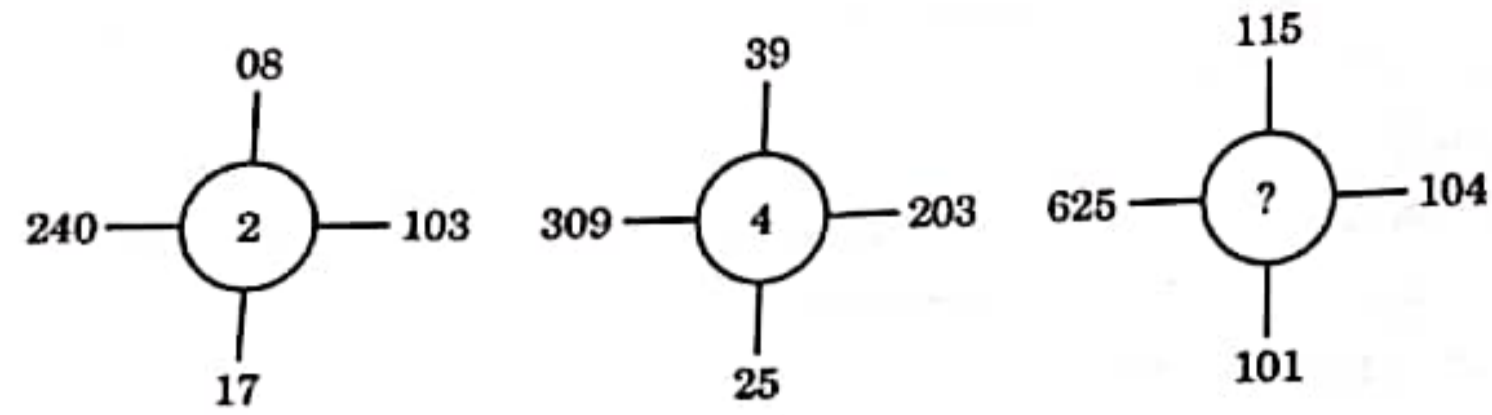
SWD1201UP25

(23 - C1)

UWEBITY

UWR

47. Identify the number corresponding to the question mark (?).



- (1) 3 (2) 5 (3) 7 (4) 8

48. Consider the following :

- a. Sanganakallu b. Brahmagiri
c. Hemmige d. Hirebenakal

How many of the above sites have been identified as Neolithic site/sites in Karnataka ?

- (1) Only one (2) Only two
(3) Only three (4) All four

49. Consider the following :

- a. Harisena b. Jinasena
c. Srivijaya d. Ponna

How many of the above were court poets of Amoghavarsha Nrupatunga ?

- (1) Only one (2) Only two
(3) Only three (4) All four

50. Which of the following taxes were collected by the Guptas ?

- a. Udranga b. Bhoga
c. Bali d. Hiranya

Codes :

- (1) a and b only (2) b and c only
(3) a, b and c only (4) a, b, c and d

Space for Rough Work / ಡಬ್ಬಾ ಕೆಲಸಕ್ಕೆ ಸ್ಥಳ

Handwritten calculations:

$$2 \rightarrow 2+3=4$$

$$2 \rightarrow 4+4=8$$

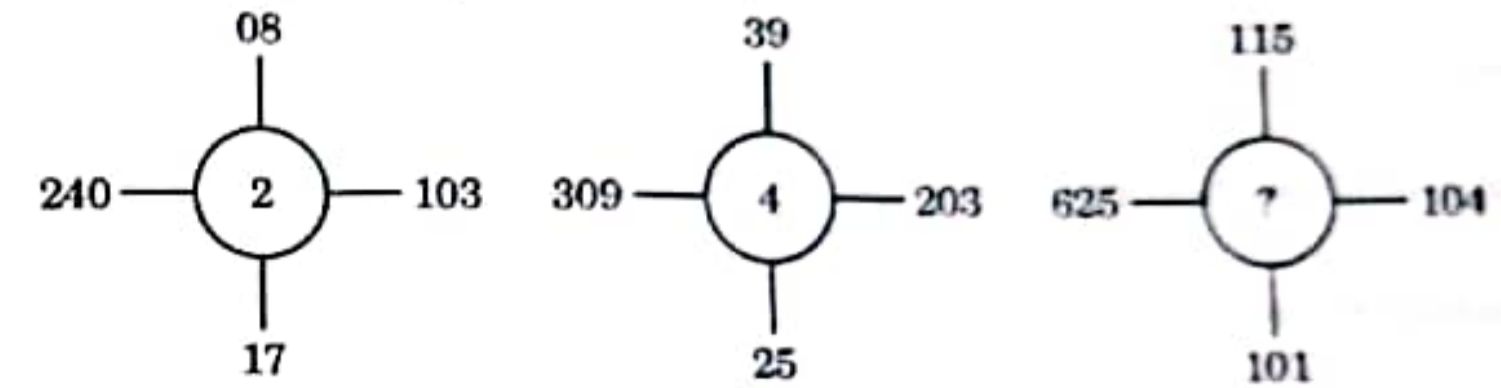
$$2 \rightarrow 2 \rightarrow 8$$

$$(24-C1) \quad 4$$

$$\begin{array}{r} 39 \times 4 \\ 156 \\ 156 \\ \hline 156 \end{array}$$

SWD1201UP25

47. ಪ್ರಶ್ನಾರ್ಥಕ ಚಿಹ್ನೆ (?) ಯ ಸ್ಥಾನದಲ್ಲಿ ಬರುವ ಸಂಖ್ಯೆಯನ್ನು ಕಂಡು ಹಿಡಿಯಿರಿ



- (1) 3 (2) 5 (3) 7 (4) 8

48. ಈ ಕೆಳಗಿನವುಗಳನ್ನು ಪರಿಗಣಿಸಿ :

- a. ಸಂಗನಕಲ್ಲು b. ಬ್ರಹ್ಮಗಿರಿ
c. ಹೆಮ್ಮಿಗೇ d. ಹಿರೇಬೆನಕಲ್

ಈ ಮೇಲಿನ ಎಷ್ಟು ನೆಲೆಯನ್ನು / ಗಳನ್ನು ಕರ್ನಾಟಕದ ನವಶಿಲಾಯುಗದ ನೆಲೆ/ನೆಲೆಗಳೆಂದು ಗುರುತಿಸಲಾಗಿದೆ ?

- (1) ಒಂದು ಮಾತ್ರ (2) ಎರಡು ಮಾತ್ರ
(3) ಮೂರು ಮಾತ್ರ (4) ಎಲ್ಲ ನಾಲ್ಕು

49. ಈ ಕೆಳಗಿನ ಕವಿಗಳನ್ನು ಪರಿಗಣಿಸಿ :

- a. ಹರಿಸೇನ b. ಜಿನಸೇನ
c. ಶ್ರೀವಿಜಯ d. ಪೊನ್ನ

ಈ ಮೇಲಿನ ಎಷ್ಟು ಕವಿಗಳು ಅಮೋಘವರ್ಷ ನೃಪತುಂಗನ ಆಸ್ಥಾನ ಕವಿಗಳಾಗಿದ್ದರು ?

- (1) ಒಬ್ಬರು ಮಾತ್ರ (2) ಇಬ್ಬರು ಮಾತ್ರ
(3) ಮೂವರು ಮಾತ್ರ (4) ಎಲ್ಲ ನಾಲ್ವರೂ

50. ಈ ಕೆಳಗಿನ ಯಾವ-ಯಾವ ತರಿಗಳನ್ನು ಗುಪ್ತರು ಸಂಗ್ರಹಿಸುತ್ತಿದ್ದರು ?

- a. ಉದ್ರಂಗ b. ಭೋಗ
c. ಬಾಲಿ d. ಹಿರಣ್ಯ

ಕೋಡ್‌ಗಳು :

- (1) a ಮತ್ತು b ಮಾತ್ರ (2) b ಮತ್ತು c ಮಾತ್ರ
(3) a, b ಮತ್ತು c ಮಾತ್ರ (4) a, b, c ಮತ್ತು d

Space for Rough Work / ಡಬ್ಬಾ ಕೆಲಸಕ್ಕೆ ಸ್ಥಳ

SWD1201UP25

(25 - C1)

51. Which of the following Fundamental Rights is only available to the citizens of India ?

- (1) All are equal before the law
- (2) Abolition of Untouchability
- (3) Prohibition of Discrimination
- (4) Abolition of Titles

52. Which of the following statement is *not* correct related to Belagavi Congress Session ?

- (1) The place of Belagavi session was named 'Vijayanagara'.
- (2) "Udayavaagali Cheluva Kannada Nadu" song was sung there for the first time.
- (3) Established Hindustan Seva Dal.
- (4) Swarajya Party was merged with Congress Party.

53. Consider the following statements :

- a. Ankasamudra Bird Conservation site is a man-made wetland.
- b. It has been developed for monsoon runoff water coming from Tungabhadra.
- c. The site is widely known for its rich bird diversity.
- d. It has been declared as a National Park.

Which of the above statements are correct ?

- (1) a, b and c only
- (2) a, c and d only
- (3) a and b only
- (4) a, b, c and d

Space for Rough Work / ಕಚ್ಚಾ ಕೆಲಸಕ್ಕೆ ಸ್ಥಳ

SWD1201UP25

(26 - C1)

14R
15E
17A
29
30

51. ಈ ಕೆಳಕಂಡ ಮೂಲಭೂತ ಹಕ್ಕುಗಳಲ್ಲಿ ಯಾವುದು ಬಾರತೀಯ ಪ್ರಜೆಗಳಿಗೆ ಮಾತ್ರ ಲಭ್ಯ ಇರುವ ಮೂಲಭೂತ ಹಕ್ಕಾಗಿದೆ ?

- (1) ಕಾನೂನಿನ ಮುಂದೆ ಎಲ್ಲರೂ ಸಮಾನರು
- (2) ಅಸ್ಪೃಶ್ಯತೆಯ ನಿರ್ಮೂಲನೆ
- (3) ತಾರತಮ್ಯ ನಿಷೇಧ
- (4) ಬಿರುದುಗಳ ರದ್ದತಿ

52. ಬೆಳಗಾವಿ ಕಾಂಗ್ರೆಸ್ ಅಧಿವೇಶನಕ್ಕೆ ಸಂಬಂಧಿಸಿದಂತೆ ಈ ಕೆಳಗಿನ ಯಾವ ಹೇಳಿಕೆ ತಪ್ಪಾಗಿದೆ ?

- (1) ಬೆಳಗಾವಿ ಅಧಿವೇಶನದ ಸ್ಥಳವನ್ನು 'ವಿಜಯನಗರ' ಎಂದು ಹೆಸರಿಸಲಾಗಿತ್ತು.
- (2) "ಉದಯವಾಗಲಿ ಚೆಲುವ ನಾದು ಗೀತೆ"ಯನ್ನು ಮೊದಲ ಬಾರಿಗೆ ಕಾದಲಾಯಿತು.
- (3) ಹಿಂದೂಸ್ತಾನ್ ಸೇವಾ ದಳವನ್ನು ಸ್ಥಾಪಿಸಲಾಯಿತು.
- (4) ಸ್ವರಾಜ್ಯ ಪಕ್ಷವನ್ನು ಕಾಂಗ್ರೆಸ್ ಪಕ್ಷದೊಂದಿಗೆ ವಿಲೀನಗೊಳಿಸಲಾಯಿತು.

53. ಈ ಕೆಳಗಿನ ಹೇಳಿಕೆಗಳನ್ನು ಪರಿಗಣಿಸಿ :

- a. ಅಂಕಸಮುದ್ರ ಪಕ್ಷಿ ಸಂರಕ್ಷಣಾ ತಾಣವು ಮಾನವ ನಿರ್ಮಿತ ಜಾಗು ಪ್ರದೇಶವಾಗಿದೆ.
- b. ಇದನ್ನು ತುಂಗಭದ್ರಾ ನದಿಯಿಂದ ಬರುವ ಮಾನ್ಸೂನ್ ಮಳೆನೀರನ್ನು ಸಂಗ್ರಹಿಸುವ ಸಲುವಾಗಿ ಅಭಿವೃದ್ಧಿ ಪಡಿಸಲಾಗಿದೆ.
- c. ಈ ತಾಣವು ಸಮೃದ್ಧ ಪಕ್ಷಿ ವೈವಿಧ್ಯತೆಗೆ ವ್ಯಾಪಕವಾಗಿ ಜನಪ್ರಿಯವಾಗಿದೆ.
- d. ಇದನ್ನು ರಾಷ್ಟ್ರೀಯ ಉದ್ಯಾನವನ ಎಂದು ಘೋಷಿಸಲಾಗಿದೆ.

ಈ ಮೇಲಿನ ಯಾವ ಹೇಳಿಕೆಗಳು ಸರಿಯಾಗಿವೆ ?

- (1) a, b ಮತ್ತು c ಮಾತ್ರ
- (2) a, c ಮತ್ತು d ಮಾತ್ರ
- (3) a ಮತ್ತು b ಮಾತ್ರ
- (4) a, b, c ಮತ್ತು d

Space for Rough Work / ಕಚ್ಚಾ ಕೆಲಸಕ್ಕೆ ಸ್ಥಳ

SWD1201UP25

(27 - C1)

54. Consider the following statements :

- Surat and Indore were jointly declared as the 'Cleanest Cities of the Country' at the Annual City Awards – 2023.
- The theme of the Cleanliness Survey – 2023 was "Waste to Wealth".
- The theme of the Cleanliness Survey – 2024 was "Reduce, Reuse and Recycle".

Which of the statements are correct ?

- a and b only
- b and c only
- a and c only
- a, b and c

55. Which one of the following is the correct sequence of the countries producing solar power in 2024 in decreasing order (from highest to lowest) ?

- USA – China – Germany – Japan
- USA – China – Japan – Germany
- China – USA – Germany – Japan
- China – USA – Japan – Germany

56. Consider the following statements regarding West Nile Fever :

- Most of the symptoms are similar to that of encephalitis.
- 50% of the patients need not show any symptoms.
- The disease is spread by the Culex species of mosquitoes.

Which of the above statements is/are correct ?

- a and b only
- b only
- a and c only
- a, b and c

57. Consider the following actions :

- Construction of dams
- Channel improvement
- Dry zone planning
- Flood plane zoning

Which among the above are employed to mitigate the floods ?

- a, b and c only
- a, c and d only
- a, b and d only
- a, b, c and d

Space for Rough Work / ಕಚ್ಚಾ ಕೆಲಸಕ್ಕೆ ಸ್ಥಳ

54. ಈ ಕೆಳಗಿನ ಹೇಳಿಕೆಗಳನ್ನು ಪರಿಗಣಿಸಿ :

- 2023 ರ ವಾರ್ಷಿಕ ನಗರ ಪ್ರಶಸ್ತಿ ಸಮಾರಂಭದಲ್ಲಿ ಸೂರತ್ ಮತ್ತು ಇಂದೋರ್ ನಗರಗಳು 'ರಾಷ್ಟ್ರದ ಸ್ವಚ್ಛ ನಗರ'ಗಳೆಂದು ಜಂಟಿಯಾಗಿ ಘೋಷಿತವಾದವು.
- ಸ್ವಚ್ಛತಾ ಸಮೀಕ್ಷೆ – 2023 ರ ಧ್ಯೇಯ ವಾಕ್ಯ "ಕಸದಿಂದ ಸಂಪತ್ತು".
- ಸ್ವಚ್ಛತಾ ಸಮೀಕ್ಷೆ – 2024 ರ ಧ್ಯೇಯ ವಾಕ್ಯ "ಕಡಿತಗೊಳಿಸಿ, ಪುನರ್ ಉಪಯೋಗ ಮತ್ತು ಪುನರ್ ಉತ್ಪಾದಿಸಿ".

ಈ ಮೇಲಿನ ಯಾವ ಹೇಳಿಕೆ/ಹೇಳಿಕೆಗಳು ಸರಿಯಾಗಿದೆ/ಸರಿಯಾಗಿವೆ ?

- a ಮತ್ತು b ಮಾತ್ರ
- b ಮತ್ತು c ಮಾತ್ರ
- a ಮತ್ತು c ಮಾತ್ರ
- a, b ಮತ್ತು c

55. 2024 ರಲ್ಲಿ ಸೌರಶಕ್ತಿ ಉತ್ಪಾದಿಸಿದ ರಾಷ್ಟ್ರಗಳ ಪೈಕಿ ಈ ಕೆಳಗಿನ ಯಾವುದು ಅದರೋಹಣ ಕ್ರಮದಲ್ಲಿ (ಅತಿ ಹೆಚ್ಚಿನಿಂದ ಕಡಿಮೆಗೆ) ಇದೆ ?

- ಯು ಎಸ್ ಎ – ಚೀನಾ – ಜರ್ಮನಿ – ಜಪಾನ್
- ಯು ಎಸ್ ಎ – ಚೀನಾ – ಜಪಾನ್ – ಜರ್ಮನಿ
- ಚೀನಾ – ಯು ಎಸ್ ಎ – ಜರ್ಮನಿ – ಜಪಾನ್
- ಚೀನಾ – ಯು ಎಸ್ ಎ – ಜಪಾನ್ – ಜರ್ಮನಿ

56. ವಶ್ಚಿಮ ನೈಲ್ ಜ್ವರಕ್ಕೆ ಸಂಬಂಧಿಸಿದಂತೆ ಈ ಕೆಳಗಿನ ಹೇಳಿಕೆಗಳನ್ನು ಪರಿಗಣಿಸಿ :

- ಹೆಚ್ಚಿನ ರೋಗಲಕ್ಷಣಗಳು ಮಿದುಳುರಿಯೂತದಂತೆಯೇ (ಎನ್‌ಸೆಫಲೈಟಿಸ್) ಇರುತ್ತವೆ.
- 50 ರಷ್ಟು ರೋಗಿಗಳು ಯಾವುದೇ ರೋಗಲಕ್ಷಣಗಳನ್ನು ತೋರಿದರೇ ಇರಬಹುದು.
- ಈ ರೋಗವು ಕ್ಯೂಲೆಕ್ಸ್ ಜಾತಿಯ ಸೊಳ್ಳೆಗಳಿಂದ ಹರಡುತ್ತದೆ.

ಈ ಮೇಲಿನ ಹೇಳಿಕೆಗಳಲ್ಲಿ ಯಾವುದು/ಯಾವುವು ಸರಿ ?

- a ಮತ್ತು b ಮಾತ್ರ
- b ಮಾತ್ರ
- a ಮತ್ತು c ಮಾತ್ರ
- a, b ಮತ್ತು c

57. ಕೆಳಗಿನ ಕ್ರಿಯೆಗಳನ್ನು ಪರಿಗಣಿಸಿ :

- ಅಣೆಕಟ್ಟುಗಳ ನಿರ್ಮಾಣ
- ಕಾಲುವೆ ಸುಧಾರಣೆ
- ಶುಷ್ಕ ಪ್ರದೇಶ ಯೋಜನೆ
- ಪ್ರವಾಹ ಪ್ರದೇಶ ವಲಯೀಕರಣ

ಪ್ರವಾಹವನ್ನು ತಡೆಗಟ್ಟಲು ಮೇಲಿನ ಯಾವುದುಗಳನ್ನು ಅನುಸರಿಸಲಾಗುತ್ತದೆ ?

- a, b ಮತ್ತು c ಮಾತ್ರ
- a, c ಮತ್ತು d ಮಾತ್ರ
- a, b ಮತ್ತು d ಮಾತ್ರ
- a, b, c ಮತ್ತು d

Space for Rough Work / ಕಚ್ಚಾ ಕೆಲಸಕ್ಕೆ ಸ್ಥಳ

58. Consider the following pairs regarding river confluences :

Place Name	Rivers Joined
a. Dev Prayag	- Pindar and Alakananda
b. Karna Prayag	- Bhagirathi and Alakananda
c. Rudra Prayag	- Mandakini and Alakananda

Which of the above pair/pairs is/are correctly matched ?

- (1) a only (2) a and b only
(3) c only (4) a, b and c

59. Identify the correct statement/statements :

- a. South Africa is the largest African country (Area-wise).
b. Atlas Mountains are found in the African continent.
c. Congo is the second largest river of the African continent.
d. Algeria is the smallest African country (Area-wise).

Codes :

- (1) a only (2) a and b only
(3) a, b, c and d (4) b and c only

60. Choose the correctly matched pairs :

Lake	Country/Continent
a. Lake Huron	i. North America
b. Lake Rotomahana	ii. New Zealand
c. Lake Titicaca	iii. South Africa
d. Lake Baikal	iv. Canada

Codes :

- (1) a and b only (2) a, b and c only
(3) b, c and d only (4) a and c only

Space for Rough Work / ಕಚ್ಚಾ ಕೆಲಸಕ್ಕೆ ಸ್ಥಳ

58. ನದಿ ಸಂಗಮಗಳಿಗೆ ಸಂಬಂಧಿಸಿದಂತೆ ಈ ಕೆಳಗಿನ ಜೋಡಿಗಳನ್ನು ಪರಿಗಣಿಸಿ :

ಸ್ಥಳದ ಹೆಸರು	ಸೇರುವ ನದಿಗಳು
a. ದೇವ ಪ್ರಯಾಗ	- ಬಿಂದಾಲ್ ಮತ್ತು ಅಲಕನಂದಾ
b. ಕರ್ನಾ ಪ್ರಯಾಗ	- ಭಾಗೀರಥಿ ಮತ್ತು ಅಲಕನಂದಾ
c. ರುದ್ರ ಪ್ರಯಾಗ	- ಮಂದಾಕಿನಿ ಮತ್ತು ಅಲಕನಂದಾ

ಮೇಲಿನ ಯಾವ ಜೋಡಿ/ಜೋಡಿಗಳು ಸರಿಯಾಗಿ ಹೊಂದಾಣಿಕೆಯಾಗಿದೆ/ಹೊಂದಾಣಿಕೆಯಾಗಿದೆ ?

- (1) a ಮಾತ್ರ (2) a ಮತ್ತು b ಮಾತ್ರ
(3) c ಮಾತ್ರ (4) a, b ಮತ್ತು c

59. ಸರಿಯಾದ ಹೇಳಿಕೆ/ಹೇಳಿಕೆಗಳನ್ನು ಗುರುತಿಸಿ :

- a. ದಕ್ಷಿಣ ಆಫ್ರಿಕಾ, ಆಫ್ರಿಕಾ ಖಂಡದ ಅತಿದೊಡ್ಡ ರಾಷ್ಟ್ರ (ವಿಸ್ತೀರ್ಣದನ್ವಯ).
b. ಅಟ್ಲಾಸ್ ಪರ್ವತಗಳು ಆಫ್ರಿಕಾ ಖಂಡದಲ್ಲಿ ಕಂಡುಬರುತ್ತವೆ.
c. ಕಾಂಗೋ ನದಿಯು ಆಫ್ರಿಕಾ ಖಂಡದ ಎರಡನೇ ಅತಿ ದೊಡ್ಡ ನದಿ.
d. ಅಲ್ಜೀರಿಯಾ ಆಫ್ರಿಕಾ ಖಂಡದ ಅತಿ ಸಣ್ಣ ರಾಷ್ಟ್ರ (ವಿಸ್ತೀರ್ಣದನ್ವಯ).

ಕೋಡ್‌ಗಳು :

- (1) a ಮಾತ್ರ (2) a ಮತ್ತು b ಮಾತ್ರ
(3) a, b, c ಮತ್ತು d (4) b ಮತ್ತು c ಮಾತ್ರ

60. ಸರಿಯಾಗಿ ಹೊಂದಾಣಿಕೆಯಿರುವ ಜೋಡಿಗಳನ್ನು ಗುರುತಿಸಿ :

ಸರೋವರ	ದೇಶ/ ಖಂಡ
a. ಹ್ಯುರಾನ್ ಸರೋವರ	i. ಉತ್ತರ ಅಮೇರಿಕಾ
b. ರೋಟೊಮಹಾನ ಸರೋವರ	ii. ನ್ಯೂಜಿಲ್ಯಾಂಡ್
c. ಟಿಟಿಕಾಕಾ ಸರೋವರ	iii. ದಕ್ಷಿಣ ಆಫ್ರಿಕಾ
d. ಬೈಕಲ್ ಸರೋವರ	iv. ಕನಡಾ

ಕೋಡ್‌ಗಳು :

- (1) a ಮತ್ತು b ಮಾತ್ರ (2) a, b ಮತ್ತು c ಮಾತ್ರ
(3) b, c ಮತ್ತು d ಮಾತ್ರ (4) a ಮತ್ತು c ಮಾತ್ರ

Space for Rough Work / ಕಚ್ಚಾ ಕೆಲಸಕ್ಕೆ ಸ್ಥಳ

61. Identify the correct statements from the following :

- Mining is called as 'Robbery Industry'.
- Orography is related to mountains.
- Hematite is also called as black ore.
- Siderite is the low-grade iron ore.

Codes :

- (1) a and b only
- (2) a, b and c only
- (3) b, c and d only
- (4) a, b and d only

62. Consider the following pairs :

Name of the Glacier	Location
a. Bara Shigri	i. Himachal Pradesh
b. Milam	ii. Sikkim
c. Siachen	iii. Karakoram
d. Pindari	iv. Kashmir

Which of the above mentioned pair/pairs is/are correctly matched ?

- (1) b and d only
- (2) a only
- (3) c only
- (4) a and c only

63. Rearrange the following in a correct order :

- Traditional Society
- Pre-conditions for take-off
- The drive to technological maturity
- Age of high mass consumption
- The take-off

- (1) a, b, c, e, d
- (2) a, b, e, c, d
- (3) b, a, e, c, d
- (4) a, e, d, b, c

Space for Rough Work / ಕಚ್ಚಾ ಕೆಲಸಕ್ಕೆ ಸ್ಥಳ

61. ಈ ಕೆಳಗಿನವುಗಳಲ್ಲಿ ಸರಿಯಾದ ಹೇಳಿಕೆಗಳನ್ನು ಆಯ್ಕೆಮಾಡಿ :

- ಗಣಿಗಾರಿಕೆಯನ್ನು 'ದರೋಡೆ ಉದ್ಯಮ' ಎಂದು ಕರೆಯುವರು.
- ಓರೋಗ್ರಫಿ (Orography) ಇದು ಪರ್ವತಗಳಿಗೆ ಸಂಬಂಧಿಸಿದಾಗಿದೆ.
- ಹೆಮಟೈಟ್ ಅನ್ನು 'ಕಪ್ಪು ಅದಿರು' ಎಂದೂ ಕರೆಯುವರು.
- ಸೈಡರೈಟ್ ಅತಿ ಕೆಳದರ್ಜೆಯ ಕಬ್ಬಿಣದ ಅದಿರು.

ಕೋಡ್‌ಗಳು :

- (1) a ಮತ್ತು b ಮಾತ್ರ
- (2) a, b ಮತ್ತು c ಮಾತ್ರ
- (3) b, c ಮತ್ತು d ಮಾತ್ರ
- (4) a, b ಮತ್ತು d ಮಾತ್ರ

62. ಕೆಳಗಿನ ಜೋಡಿಗಳನ್ನು ಪರಿಗಣಿಸಿ :

ಹಿಮನದಿ	ಸ್ಥಾನ
a. ಬಾರ ಶಿಗರಿ	i. ಹಿಮಾಚಲ ಪ್ರದೇಶ
b. ಮಿಲಮ್	ii. ಸಿಕ್ಕಿಂ
c. ಸಿಯಾಚೆನ್	iii. ಕಾರಾಕೋರಂ
d. ಪಿಂದಾರೀ	iv. ಕಾಶ್ಮೀರ್

ಮೇಲಿನ ಯಾವ ಜೋಡಿ/ಜೋಡಿಗಳು ಸರಿಯಾಗಿ ಹೊಂದಾಣಿಕೆಯಾಗಿದೆ/ಹೊಂದಾಣಿಕೆಯಾಗಿವೆ ?

- (1) b ಮತ್ತು d ಮಾತ್ರ
- (2) a ಮಾತ್ರ
- (3) c ಮಾತ್ರ
- (4) a ಮತ್ತು c ಮಾತ್ರ

63. ಈ ಕೆಳಗಿನವುಗಳನ್ನು ಸರಿಯಾದ ಕ್ರಮದಲ್ಲಿ ಜೋಡಿಸಿರಿ :

- ಸಾಂಪ್ರದಾಯಿಕ ಸಮಾಜ
- ಟೇಕ್-ಆಫ್ ನ ಪೂರ್ವಸ್ಥಿತಿ
- ತಾಂತ್ರಿಕ ಪರಿಪಕ್ವತೆಯತ್ತ ಚಲಿಸುವಿಕೆ
- ಉನ್ನತ ಮಟ್ಟದ ಅನುಭೋಗ
- ಟೇಕ್-ಆಫ್

- (1) a, b, c, e, d
- (2) a, b, e, c, d
- (3) b, a, e, c, d
- (4) a, e, d, b, c

Space for Rough Work / ಕಚ್ಚಾ ಕೆಲಸಕ್ಕೆ ಸ್ಥಳ

64. Consider the following statements :

- The President appoints the National Commission for Backward Classes under Article 340.
- The 65th Amendment Act 1990 gives constitutional status to the National Commission for Scheduled Castes and Tribes.
- J.C. Kumarappa Committee was appointed to study about socially and educationally backward classes.
- Kakasaheb Kalelkar and B.P. Mandal Committee were appointed to study about socially and educationally backward classes.

Identify the correct statement/s.

- Only a is correct
- Only a and b are correct
- Only a, b and d are correct
- Only c is correct

65. IELTS was introduced in 1989. The score in IELTS mirrors one's understanding and ability to interact in English. Expand IELTS.

- Indian English Level Testing System
- International English Level Testing System
- International English Language Testing System
- Indian English Language Testing System

66. Which of the following agency has been designated to monitor provisions of the RTE (Right to Education) Act ?

- Central Board of Secondary Education (CBSE)
- The National Commission for Protection of Child Rights (NCPCR)
- National Council of Educational Research and Training (NCERT)
- Department of Elementary Education and Literacy (DEEL)

Space for Rough Work / ಕಚ್ಚಾ ಕೆಲಸಕ್ಕೆ ಸ್ಥಳ

SWD1201UP25

(34 - C1)

64. ಈ ಕೆಳಕಂಡ ಹೇಳಿಕೆಗಳನ್ನು ಗಮನಿಸಿ :

- ರಾಷ್ಟ್ರಪತಿಗಳು ಅನುಚ್ಛೇದ 340 ರ ಅನ್ವಯ ರಾಷ್ಟ್ರೀಯ ಹಿಂದುಳಿದ ವರ್ಗಗಳ ಆಯೋಗಗಳನ್ನು ನೇಮಿಸುತ್ತಾರೆ.
- 1990 ರ 65ನೇ ತಿದ್ದುಪಡಿ ಕಾಯ್ದೆಯು ಪರಿಶಿಷ್ಟ ಜಾತಿ ಮತ್ತು ಬುಡಕಟ್ಟುಗಳ (ಪಂಗಡ) ರಾಷ್ಟ್ರೀಯ ಆಯೋಗಕ್ಕೆ ಸಾಂವಿಧಾನಿಕ ಸ್ಥಾನಮಾನವನ್ನು ನೀಡುತ್ತದೆ.
- ಸಾಮಾಜಿಕವಾಗಿ ಹಾಗೂ ಶೈಕ್ಷಣಿಕವಾಗಿ ಹಿಂದುಳಿದ ವರ್ಗಗಳ ಕುರಿತು ಅಧ್ಯಯನ ಮಾಡಲು ಜೆ.ಸಿ. ಕುಮಾರಪ್ಪ ಸಮಿತಿಯನ್ನು ರಚಿಸಲಾಗಿತ್ತು.
- ಕಾಕಾ ಸಾಹೇಬ್ ಕಾಲೇಲ್ಕರ್ ಮತ್ತು ಬಿ.ಪಿ. ಮಂಡಲ್ ಸಮಿತಿಗಳನ್ನು ಸಾಮಾಜಿಕವಾಗಿ ಹಾಗೂ ಶೈಕ್ಷಣಿಕವಾಗಿ ಹಿಂದುಳಿದ ವರ್ಗಗಳ ಕುರಿತು ಅಧ್ಯಯನ ಮಾಡಲು ನೇಮಿಸಲಾಗಿತ್ತು.

ಸರಿಯಾದ ಹೇಳಿಕೆಯನ್ನು/ಹೇಳಿಕೆಗಳನ್ನು ಗುರುತಿಸಿ.

- a ಮಾತ್ರ ಸರಿಯಾಗಿದೆ
- a ಮತ್ತು b ಮಾತ್ರ ಸರಿಯಾಗಿವೆ
- a, b ಮತ್ತು d ಮಾತ್ರ ಸರಿಯಾಗಿವೆ
- c ಮಾತ್ರ ಸರಿಯಾಗಿದೆ

65. ಐ ಇ ಎಲ್ ಟಿ ಎಸ್ (IELTS) ಅನ್ನು 1989 ರಲ್ಲಿ ಪರಿಚಯಿಸಲಾಯಿತು. ಐ ಇ ಎಲ್ ಟಿ ಎಸ್ ನಲ್ಲಿ ಪಡೆದ ಅಂಕಗಳು ವ್ಯಕ್ತಿಯ ಇಂಗ್ಲೀಷ್ ಭಾಷೆಯ ತಿಳುವಳಿಕೆ ಮತ್ತು ಸಂವಹನ ನಡೆಸುವ ಸಾಮರ್ಥ್ಯವನ್ನು ಸೂಚಿಸುತ್ತವೆ. ಐ ಇ ಎಲ್ ಟಿ ಎಸ್ ಅನ್ನು ವಿಸ್ತರಿಸಿ.

- ಇಂಡಿಯನ್ ಇಂಗ್ಲೀಷ್ ಲೆವೆಲ್ ಟೆಸ್ಟಿಂಗ್ ಸಿಸ್ಟಮ್
- ಇಂಟರ್‌ನ್ಯಾಷನಲ್ ಇಂಗ್ಲೀಷ್ ಲೆವೆಲ್ ಟೆಸ್ಟಿಂಗ್ ಸಿಸ್ಟಮ್
- ಇಂಟರ್‌ನ್ಯಾಷನಲ್ ಇಂಗ್ಲೀಷ್ ಲ್ಯಾಂಗ್ವೇಜ್ ಟೆಸ್ಟಿಂಗ್ ಸಿಸ್ಟಮ್
- ಇಂಡಿಯನ್ ಇಂಗ್ಲೀಷ್ ಲ್ಯಾಂಗ್ವೇಜ್ ಟೆಸ್ಟಿಂಗ್ ಸಿಸ್ಟಮ್

66. ಶಿಕ್ಷಣ ಹಕ್ಕು ಕಾಯ್ದೆಯ (RTE) ಸೌಲಭ್ಯಗಳನ್ನು ಮೇಲ್ವಿಚಾರಣೆ ಮಾಡಲು ಈ ಕೆಳಕಂಡ ಯಾವ ಸಂಸ್ಥೆಯನ್ನು ನಿಯೋಜಿಸಲಾಗಿದೆ ?

- ಸೆಂಟ್ರಲ್ ಬೋರ್ಡ್ ಆಫ್ ಸೆಕೆಂಡರಿ ಎಜುಕೇಶನ್ (ಸಿ ಬಿ ಎಸ್ ಇ)
- ನ್ಯಾಷನಲ್ ಕಮಿಷನ್ ಫಾರ್ ಪ್ರೊಟೆಕ್ಷನ್ ಆಫ್ ಚೈಲ್ಡ್ ರೈಟ್ಸ್ (ಎನ್ ಸಿ ಪಿ ಸಿ ಆರ್)
- ನ್ಯಾಷನಲ್ ಕೌನ್ಸಿಲ್ ಆಫ್ ಎಜುಕೇಷನ್ ರಿಸರ್ಚ್ ಅಂಡ್ ಟ್ರೇನಿಂಗ್ (ಎನ್ ಸಿ ಇ ಆರ್ ಟಿ)
- ಡಿಪಾರ್ಟ್‌ಮೆಂಟ್ ಆಫ್ ಎಲಿಮೆಂಟರಿ ಎಜುಕೇಷನ್ ಅಂಡ್ ಲಿಟರಸಿ (ಡಿ ಇ ಇ ಎಲ್)

Space for Rough Work / ಕಚ್ಚಾ ಕೆಲಸಕ್ಕೆ ಸ್ಥಳ

SWD1201UP25

(35 - C1)

67. Which of the following organization prepares the 'Global Gender Gap' Report ?

- (1) World Bank (2) World Health Organisation
(3) World Economic Forum (4) World Human Rights Commission

68. Which of the following statements about "Support for Marginalised Individuals for Livelihood and Enterprise (SMILE)" Scheme are correct ?

- a. It was launched by the Ministry of Social Justice and Empowerment.
b. It provides financial assistance in the form of scholarships.
c. It provides skill development and livelihood opportunities.
d. It provides financial assistance through loans to rural poor.

Select the answer using the codes given below :

- (1) a, b and c (2) a, c and d
(3) a, b and d (4) b, c and d

69. 'Going Online As Leaders' (GOAL) is a programme of the Government of India to empower the following :

- (1) Athletes (2) Women
(3) Tribal Youth (4) Rural Youth

70. Match the following :

Agitations in Karnataka	Headed by
a. Peasant Movement	i. Panduranga Hegde
b. Agitation against Kaiga Project	ii. Dr. Rajkumar
c. Appiko Movement	iii. Dr. M.D. Nanjundaswamy
d. Gokak Movement	iv. Dr. Shivaram Karanth

Codes :

- (1) a-iii, b-iv, c-i, d-ii (2) a-iv, b-iii, c-ii, d-i
(3) a-iii, b-iv, c-ii, d-i (4) a-i, b-ii, c-iii, d-iv

Space for Rough Work / ಟ್ರಾ ರೂಢ್ಢ ಸ್ಥಳ

SWD1201UP25

(36 - C1)

67. ಈ ಕೆಳಗಿನ ಯಾವ ಸಂಸ್ಥೆಯು 'ಜಾಗತಿಕ ರಂಗ ಅಂತರ ಅಭಿವೃದ್ಧಿ ಸೂಚಕರನ್ನು' ಸಿದ್ಧಪಡಿಸುತ್ತದೆ ?

- (1) ವಿಶ್ವ ಬ್ಯಾಂಕ್ (2) ವಿಶ್ವ ಆರೋಗ್ಯ ಸಂಸ್ಥೆ
(3) ವಿಶ್ವ ಅರ್ಥಿಕ ಮಂಡಳಿ (4) ವಿಶ್ವ ಮಾನವ ಹಕ್ಕುಗಳ ಆಯೋಗ

68. "ಸಪೋರ್ಟ್ ಫಾರ್ ಮಾರ್ಗಲೈಸ್ಡ್ ಇಂಡಿವಿಡ್ಯುಯಲ್ಸ್ ಫಾರ್ ಲೈವಲಿಹುಡ್ ಅಂಡ್ ಎಂಟರ್ಪ್ರೈಸ್ (SMILE) ಯೋಜನೆ" ಸಂಬಂಧಿಸಿದಂತೆ ಈ ಮುಂದಿನ ಯಾವ ಹೇಳಿಕೆಗಳು ಸರಿವಾಗಿವೆ ?

- a. ಈ ಕಾರ್ಯಕ್ರಮವನ್ನು ಸಾಮಾಜಿಕ ನ್ಯಾಯ ಮತ್ತು ಸುರಕ್ಷಿತರಾದ ಸಮೀಪವು ಪ್ರಾರಂಭಿಸಿತು.
b. ಇದು ವಿದ್ಯಾರ್ಥಿವೇತನದ ರೂಪದಲ್ಲಿ ಕಡತವಾದ ನೆರವು ನೀಡುತ್ತದೆ.
c. ಇದು ಕೌಶಲ್ಯ ಅಭಿವೃದ್ಧಿ ಮತ್ತು ಜೀವನೋಪಾಯದ ಅವಕಾಶಗಳನ್ನು ಒದಗಿಸುತ್ತದೆ.
d. ಇದು ಗ್ರಾಮೀಣ ಬಡವರಿಗೆ ಸಾಲದ ಮೂಲಕ ಕಡತವಾದ ನೆರವು ನೀಡುತ್ತದೆ.

ಕೆಳಗೆ ನೀಡಲಾದ ಕೋಡ್ ಅನ್ನು ಬಳಸಿಕೊಂಡು ಉತ್ತರವನ್ನು ಆಯ್ಕೆಮಾಡಿ :

- (1) a, b ಮತ್ತು c (2) a, c ಮತ್ತು d
(3) a, b ಮತ್ತು d (4) b, c ಮತ್ತು d

69. 'ಗೋಯಿಂಗ್ ಆನ್‌ಲೈನ್ ಆಸ್ ಲೀಡರ್ಸ್' (GOAL) ಇದು ಭಾರತ ಸರ್ಕಾರದ ಕಾರ್ಯಕ್ರಮವಾಗಿದ್ದು, ಈ ಕೆಳಗಿನವರನ್ನು ಸುರಕ್ಷಿತರನ್ನಾಗಿಸುತ್ತದೆ :

- (1) ಅಥ್ಲೀಟ್‌ಗಳು (2) ಮಹಿಳೆಯರು
(3) ಬುಡಕಟ್ಟು ಯುವಜನತೆ (4) ಗ್ರಾಮೀಣ ಯುವಜನತೆ

70. ಹೊಂದಿಸಿ ಬರೆಯಿರಿ :

ಕರ್ನಾಟಕದಲ್ಲಿನ ಹೋರಾಟಗಳು	ನೇತೃತ್ವ ವಹಿಸಿದವರು
a. ರೈತ ಚಳುವಳಿ	i. ಪಾಂಡುರಂಗ ಹೆಗ್ಡೆ
b. ಕೃಗಾ ಯೋಜನೆ ವಿರೋಧಿ ಅಂದೋಲನ	ii. ಡಾ. ರಾಜಕುಮಾರ್
c. ಅಪ್ಪಿಕೋ ಚಳುವಳಿ	iii. ಡಾ. ಎಂ.ಡಿ. ನಾಜುಂದಸ್ವಾಮಿ
d. ಗೋಕಾಕ್ ಚಳುವಳಿ	iv. ಡಾ. ಶಿವರಾಮ ಕಾರಂತ

ಕೋಡ್‌ಗಳು :

- (1) a-iii, b-iv, c-i, d-ii (2) a-iv, b-iii, c-ii, d-i
(3) a-iii, b-iv, c-ii, d-i (4) a-i, b-ii, c-iii, d-iv

Space for Rough Work / ಟ್ರಾ ರೂಢ್ಢ ಸ್ಥಳ

SWD1201UP25

(37 - C1)

71. Which among the following island of Karnataka is know as "Pigeon Island" ?

- (1) St. Mary's island (2) Kurumgad island
(3) Anjediva island (4) Netrani island

72. Which among the following is/are the correct statement/s ?

- a. The Western Ghats have large number of waterfalls.
b. Hydro-Electricity is the major source of electricity in Karnataka.
c. The West-flowing rivers of Karnataka have more potential to generate hydro-electricity due to their torrential flow.
d. The West-flowing rivers of Western Ghats form more waterfalls due to long rivers.

Codes :

- (1) a and c only (2) a, b and c only
(3) d only (4) b only

73. Consider the following classifications of land during Akbar's reign :

- a. Polaj b. Parauti
c. Chachar d. Banjar

How many of the above classification/classifications describe land that is/are left uncultivated for some period ?

- (1) Only one (2) Only two
(3) Only three (4) All four

74. Consider the following statements about the compilations of verses ascribed to Kabir :

- a. The Kabir Bijak is preserved by the Kabirpanth in Varanasi.
b. The Kabir Granthavali is associated with the Dadupanth in Rajasthan.
c. Many of Kabir's compositions are found in the Adi Granth Sahib.

How many of the above statement/statements is/are correct ?

- (1) Only one (2) Only two
(3) All three (4) None

Space for Rough Work / ಕಚ್ಚಾ ಕೆಲಸಕ್ಕೆ ಸ್ಥಳ

SWD1201UP25

(38 - C1)

71. ಕರ್ನಾಟಕದ ಈ ಕೆಳಗಿನ ಯಾವ ದ್ವೀಪವನ್ನು "ಪಾರಿವಾಳ (ಪಿಜನ್) ದ್ವೀಪ" ಎನ್ನುವರು ?

- (1) ಸೆಂಟ್ ಮೇರಿಸ್ ದ್ವೀಪ (2) ಕುರುಂಗಡ ದ್ವೀಪ
(3) ಅಂಜೆದಿವಾ ದ್ವೀಪ (4) ನೇತ್ರಾವತಿ ದ್ವೀಪ

72. ಈ ಕೆಳಗಿನವುಗಳಲ್ಲಿ ಸರಿಯಾದ ಹೇಳಿಕೆ/ಹೇಳಿಕೆಗಳು ಯಾವುದು/ಯಾವುವು ?

- a. ಪಶ್ಚಿಮ ಘಟ್ಟಗಳು ಹೆಚ್ಚಿನ ಸಂಖ್ಯೆಯ ಜಲಪಾತಗಳನ್ನು ಹೊಂದಿವೆ.
b. ಕರ್ನಾಟಕದಲ್ಲಿ ಜಲವಿದ್ಯುತ್ ವಿದ್ಯುಚ್ಛಕ್ತಿಯ ಪ್ರಮುಖ ಮೂಲವಾಗಿದೆ.
c. ಕರ್ನಾಟಕದ ಪಶ್ಚಿಮಕ್ಕೆ ಹರಿಯುವ ನದಿಗಳು ರಭಸವಾಗಿ ಹರಿಯುವುದರಿಂದ ಜಲವಿದ್ಯುಚ್ಛಕ್ತಿ ಉತ್ಪಾದನೆಗೆ ಹೆಚ್ಚು ಯೋಗ್ಯವಾಗಿವೆ.
d. ಪಶ್ಚಿಮ ಘಟ್ಟಗಳ ಪಶ್ಚಿಮಕ್ಕೆ ಹರಿಯುವ ನದಿಗಳು ಉದ್ದವಾಗಿದ್ದು ಜಲಪಾತಗಳನ್ನು ನಿರ್ಮಿಸುತ್ತವೆ.

ಕೋಡ್‌ಗಳು :

- (1) a ಮತ್ತು c ಮಾತ್ರ (2) a, b ಮತ್ತು c ಮಾತ್ರ
(3) d ಮಾತ್ರ (4) b ಮಾತ್ರ

73. ಅಕ್ಬರನ ಆಳ್ವಿಕೆಯಲ್ಲಿದ್ದ ಭೂಮಿಯ ಕೆಳಗಿನ ವರ್ಗೀಕರಣಗಳನ್ನು ಪರಿಗಣಿಸಿ :

- a. ಪೋಲಾಜ್ b. ಪರೌತಿ
c. ಚಚಾರ್ d. ಬಂಜಾರ್

ಈಗಿನ ಎಷ್ಟು ವರ್ಗೀಕರಣ/ವರ್ಗೀಕರಣಗಳು ಕೆಲವು ಅವಧಿಗೆ ಕೃಷಿ ಮಾಡದೆ ಉಳಿದಿರುವ ಭೂಮಿಯನ್ನು ವಿವರಿಸುತ್ತವೆ ?

- (1) ಒಂದು ಮಾತ್ರ (2) ಎರಡು ಮಾತ್ರ
(3) ಮೂರು ಮಾತ್ರ (4) ಎಲ್ಲ ನಾಲ್ಕು

74. ಕಬೀರನ ಪದ್ಯಗಳ ಸಂಕಲನಗಳಿಗೆ ಸಂಬಂಧಿಸಿದಂತೆ ಈ ಕೆಳಗಿನ ಹೇಳಿಕೆಗಳನ್ನು ಪರಿಗಣಿಸಿ :

- a. ಕಬೀರ್ ಬಿಜಕ್ ಅನ್ನು ವಾರಣಾಸಿಯಲ್ಲಿ ಕಬೀರಪಂಥದವರು ಸಂರಕ್ಷಿಸಿದ್ದಾರೆ.
b. ಕಬೀರ್ ಗ್ರಂಥಾವಳಿಯು ರಾಜಸ್ಥಾನದ ದಾದುಪಂಥಿಗೆ ಸಂಬಂಧಿಸಿದೆ.
c. ಕಬೀರನ ಅನೇಕ ಸಂಯೋಜನೆಗಳು ಆದಿ ಗ್ರಂಥ ಸಾಹಿಬ್‌ನಲ್ಲಿ ಕಂಡುಬರುತ್ತವೆ.

ಮೇಲಿನ ಎಷ್ಟು ಹೇಳಿಕೆ/ಹೇಳಿಕೆಗಳು ಸರಿಯಾಗಿದೆ/ಸರಿಯಾಗಿವೆ ?

- (1) ಒಂದು ಮಾತ್ರ (2) ಎರಡು ಮಾತ್ರ
(3) ಎಲ್ಲಾ ಮೂರು (4) ಯಾವುದೂ ಇಲ್ಲ

Space for Rough Work / ಕಚ್ಚಾ ಕೆಲಸಕ್ಕೆ ಸ್ಥಳ

SWD1201UP25

(39 - C1)

75. With reference to the Salt Satyagraha, consider the following :

- a. Tamil Nadu - K. Kelappan
b. Malabar - Gopalbandhu Chaudhuri
c. Orissa - C. Rajagopalachari
d. Dharasana - Sarojini Naidu

How many of the above pair/pairs is/are correctly matched ?

- (1) Only one (2) Only two
(3) Only three (4) All four

76. Match the following Preventive Detention Acts with their related years :

Laws	Years
a. MISA	i. 1985
b. COFEPOSA	ii. 1980
c. NSA	iii. 1974
d. TADA	iv. 1978

Codes :

- (1) a-i, b-ii, c-iii, d-iv (2) a-i, b-iii, c-ii, d-iv
(3) a-iv, b-iii, c-ii, d-i (4) a-iv, b-iii, c-i, d-ii

77. Which year was considered as the base year for calculating Karnataka Consumer Price Index for industrial workers for the year 2023 - 24 ?

- (1) 2017 (2) 2018 (3) 2019 (4) 2020

78. According to "World Happiness Report 2024", which of the following statement is wrong ?

- (1) It is the 12th report.
(2) India ranked 126th.
(3) Norway and Sweden are the top ranked nations respectively.
(4) Pakistan and Sri Lanka got better ranks than India.

Space for Rough Work / ಕಚ್ಚಾ ಕೆಲಸಕ್ಕೆ ಸ್ಥಳ

SWD1201UP25

(40 - C1)

75. ಉದ್ದಿನ ಸತ್ಯಾಗ್ರಹಕ್ಕೆ ಸಂಬಂಧಿಸಿದಂತೆ ಈ ಕೆಳಗಿನವುಗಳನ್ನು ಪರಿಗಣಿಸಿರಿ :

- a. ತಮಿಳುನಾಡು - ಕೆ. ಕೇಳಪ್ಪನ್
b. ಮಲಬಾರ್ - ಗೋಪಾಲ್ಬಂಧು ಚೌಧರಿ
c. ಒರಿಸ್ಸಾ - ಸಿ. ರಾಜಗೋಪಾಲ್ಚಾರಿ
d. ಧರಾಸನ - ಸರೋಜಿನಿ ನಾಯ್ಡು

ಮೇಲಿನ ಎಷ್ಟು ಜೋಡಿ/ಜೋಡಿಗಳು ಸರಿಯಾಗಿ ಹೊಂದಾಣಿಕೆಯಾಗುತ್ತವೆ/ಹೊಂದಾಣಿಕೆಯಾಗುತ್ತವೆ ?

- (1) ಒಂದು ಮಾತ್ರ (2) ಎರಡು ಮಾತ್ರ
(3) ಮೂರು ಮಾತ್ರ (4) ಎಲ್ಲ ನಾಲ್ಕು

76. ಮುನ್ನೆಚ್ಚರಿಕೆ ಬಂಧನಕ್ಕೆ ಸಂಬಂಧಿಸಿದ ಕಾಯ್ದೆಗಳನ್ನು ಅವುಗಳಿಗೆ ಸಂಬಂಧಿಸಿದ ವರ್ಷಗಳೊಂದಿಗೆ ಹೊಂದಿಸಿ:

ಕಾಯ್ದೆಗಳು	ವರ್ಷಗಳು
a. MISA	i. 1985
b. COFEPOSA	ii. 1980
c. NSA	iii. 1974
d. TADA	iv. 1978

ಕೋಡ್‌ಗಳು :

- (1) a-i, b-ii, c-iii, d-iv (2) a-i, b-iii, c-ii, d-iv
(3) a-iv, b-iii, c-ii, d-i (4) a-iv, b-iii, c-i, d-ii

77. 2023 - 24 ನೇ ಸಾಲಿನ ಕರ್ನಾಟಕ ಬೆದ್ದಮಿ ಕಾರ್ಮಿಕ ಗ್ರಾಹಕರ ಸೂಚ್ಯಂಕವನ್ನು ಅಂದಾಜಿಸಲು ಯಾವ ವರ್ಷವನ್ನು ಆಧಾರ ವರ್ಷವಾಗಿ ಪರಿಗಣಿಸಲಾಗಿದೆ ?

- (1) 2017 (2) 2018 (3) 2019 (4) 2020

78. "2024 ರ ವಿಶ್ವ ಸಂತೋಷ ಸೂಚ್ಯಂಕ" ದ ಪ್ರಕಾರ ಈ ಕೆಳಗಿನ ಯಾವ ಹೇಳಿಕೆ ತಪ್ಪಾಗಿದೆ ?

- (1) ಇದು 12ನೇ ವರದಿಯಾಗಿದೆ.
(2) ಭಾರತ 126ನೇ ರ್ಯಾಂಕ್ ಅನ್ನು ಪಡೆದಿದೆ.
(3) ನಾರ್ವೆ ಮತ್ತು ಸ್ವೀಡನ್ ದೇಶಗಳು ಕ್ರಮವಾಗಿ ಅತ್ಯುನ್ನತ ರ್ಯಾಂಕ್ ಗಳಿಸಿರುವ ದೇಶಗಳು.
(4) ಪಾಕಿಸ್ತಾನ ಮತ್ತು ಶ್ರೀಲಂಕಾ ದೇಶಗಳು ಭಾರತಕ್ಕಿಂತ ಉತ್ತಮ ರ್ಯಾಂಕ್ ಪಡೆದಿವೆ.

Space for Rough Work / ಕಚ್ಚಾ ಕೆಲಸಕ್ಕೆ ಸ್ಥಳ

SWD1201UP25

(41 - C1)

79. "Washington Consensus" is related to which of the following institutions ?

- a. IMF
b. IFC
c. World Bank
d. IDA

Codes :

- (1) a and b
(2) b and c
(3) c and d
(4) a and c

80. Relating to Karnataka's "Kusina Mane" Programme, which of the following statement/statements is/are correct ?

- a. It was announced to start in 4000 selected Gram panchayats.
b. It was announced in 2023 - 24 budget.

Codes :

- (1) Only a is correct
(2) Only b is correct
(3) Both a and b are wrong
(4) Both a and b are correct

81. Which one of the following is *not* related to World Trade Organisation ?

- (1) Red Box
(2) Amber Box
(3) Blue Box
(4) Green Box

82. Consider the following statements :

Statement I: Crypto currency follows decentralized network which is based on blockchain concept.

Statement II: The exchange of crypto currency occurs between parties without any involvement of brokers.

Among the statements given above, which is/are correct ?

- (1) Only Statement I is correct.
(2) Only Statement II is correct.
(3) Both Statement I and Statement II are correct.
(4) Both Statement I and Statement II are not correct.

Space for Rough Work / ಕಚ್ಚಾ ಕೆಲಸಕ್ಕೆ ಸ್ಥಳ

SWD1201UP25

(42 - C1)

79. "ವಾಷಿಂಗ್ಟನ್ ಒಮ್ಮತ" ಈ ಕೆಳಗಿನ ಯಾವ ಸಂಸ್ಥೆಗಳಿಗೆ ಸಂಬಂಧಿಸಿದೆ ?

- a. ಐ ಎಂ ಎಫ್
b. ಐ ಎಫ್ ಸಿ
c. ವಿಶ್ವ ಬ್ಯಾಂಕ್
d. ಐ ಡಿ ಎ

ಕೋಡ್‌ಗಳು :

- (1) a ಮತ್ತು b
(2) b ಮತ್ತು c
(3) c ಮತ್ತು d
(4) a ಮತ್ತು c

80. ಕರ್ನಾಟಕದ "ಕೂಸಿನ ಮನೆ" ಕಾರ್ಯಕ್ರಮಕ್ಕೆ ಸಂಬಂಧಿಸಿದಂತೆ ಈ ಕೆಳಗಿನ ಯಾವ ಹೇಳಿಕೆ/ಹೇಳಿಕೆಗಳು ಸರಿಯಾಗಿದೆ/ಸರಿಯಾಗಿವೆ ?

- a. ಈ ಯೋಜನೆಯನ್ನು ಆಯ್ಕೆ 4000 ಗ್ರಾಮ ಪಂಚಾಯಿತಿಗಳಲ್ಲಿ ಸ್ಥಾಪಿಸಲು ಘೋಷಿಸಲಾಗಿತ್ತು.
b. 2023 - 24 ನೇ ಸಾಲಿನ ಆಯವ್ಯಯದಲ್ಲಿ ಈ ಯೋಜನೆಯನ್ನು ಘೋಷಿಸಲಾಗಿದೆ.

ಕೋಡ್ ಗಳು :

- (1) a ಮಾತ್ರ ಸರಿ
(2) b ಮಾತ್ರ ಸರಿ
(3) a ಮತ್ತು b ಎರಡೂ ತಪ್ಪು
(4) a ಮತ್ತು b ಎರಡೂ ಸರಿ

81. ವಿಶ್ವ ವ್ಯಾಪಾರ ಸಂಘಟನೆಗೆ ಈ ಕೆಳಗಿನ ಯಾವುದು ಸಂಬಂಧಿಸಿಲ್ಲ?

- (1) ಕೆಂಪು ಪೆಟ್ಟಿಗೆ
(2) ಅಂಬರ್ ಪೆಟ್ಟಿಗೆ
(3) ನೀಲಿ ಪೆಟ್ಟಿಗೆ
(4) ಹಸಿರು ಪೆಟ್ಟಿಗೆ

82. ಕೆಳಗಿನ ಹೇಳಿಕೆಗಳನ್ನು ಪರಿಗಣಿಸಿ :

ಹೇಳಿಕೆ I: ಕ್ರಿಪ್ಟೋ ಕರೆನ್ಸಿಯು ಬ್ಲಾಕ್‌ಚೈನ್ ಪರಿಕಲ್ಪನೆಯನ್ನು ಆಧರಿಸಿದ ವಿತರಿಸಿದ ವಿತರಿಸಿದ ನೆಟ್‌ವರ್ಕ್ ಅನ್ನು ಅನುಸರಿಸುತ್ತದೆ.

ಹೇಳಿಕೆ II: ದಲ್ಲಾಳಿಗಳ ಯಾವುದೇ ರೀತಿಯ ಭಾಗವಹಿಸುವಿಕೆಯಿಲ್ಲದೇ ಕ್ರಿಪ್ಟೋ ಕರೆನ್ಸಿಯ ವಿವಿಧವು ಸಂಭವಿಸುತ್ತದೆ.

ಮೇಲಿನ ಹೇಳಿಕೆಗಳಲ್ಲಿ ಸರಿಯಾದ ಹೇಳಿಕೆ / ಹೇಳಿಕೆಗಳು ಯಾವುದು/ಯಾವುವು ?

- (1) ಹೇಳಿಕೆ I ಮಾತ್ರ ಸರಿಯಾಗಿದೆ.
(2) ಹೇಳಿಕೆ II ಮಾತ್ರ ಸರಿಯಾಗಿದೆ.
(3) ಹೇಳಿಕೆ I ಮತ್ತು II ಎರಡೂ ಸರಿಯಾಗಿವೆ.
(4) ಹೇಳಿಕೆ I ಮತ್ತು II ಎರಡೂ ತಪ್ಪಾಗಿವೆ.

Space for Rough Work / ಕಚ್ಚಾ ಕೆಲಸಕ್ಕೆ ಸ್ಥಳ

SWD1201UP25

(43 - C1)

83. Match the following with respect to MS Excel :

a. Macro	i. Get the help on topics/contents
b. Press F1	ii. Lets you search a document for desired text
c. Ctrl + F	iii. Undo editing
d. Ctrl + Z	iv. A series of instructions which can be issued using a single command

Codes :

- (1) a-iv, b-iii, c-i, d-ii (2) a-iv, b-iii, c-ii, d-i
(3) a-iv, b-ii, c-iii, d-i (4) a-iv, b-i, c-ii, d-iii

84. Full form of ERP is :

- (1) Electronic Resource Planning (2) Electric Resource Planning
(3) Enter Resource Planning (4) Enterprise Resource Planning

85. Which of the following is *not* a type of hacker in relation to cyber security ?

- (1) Gray Hat Hacker (2) Black Hat Hacker
(3) Pink Hat Hacker (4) Green Hat Hacker

86. Which unit controls and coordinates all the input and output devices of the computer?

- (1) ALU (2) CU (3) MU (4) VDU

87. Match the following :

Network Type	Distance
a. LAN	i. 2 – 50 kms
b. WAN	ii. Worldwide
c. MAN	iii. 1 – 2 kms
d. PAN	iv. Within 10 m

Codes :

- (1) a-ii, b-iii, c-iv, d-i (2) a-iii, b-ii, c-i, d-iv
(3) a-i, b-ii, c-iii, d-iv (4) a-iv, b-i, c-ii, d-iii

Space for Rough Work / ಕಲ್ಪನೆ ಕೆಲಸಕ್ಕೆ ಸ್ಥಳ

83. ಈ ಕೆಳಗಿನವುಗಳನ್ನು ಎಂಎಸ್ ಎಕ್ಸೆಲ್ (MS Excel) ಗೆ ಸಂಬಂಧಿಸಿದಂತೆ ಹೊಂದಿಸಿ :

a. ಮ್ಯಾಕ್ರೋ	i. ವಿಷಯ/ವಿವರಣೆಗೆ ಸಹಾಯ ಕರೆಯಲು
b. F1 ಒತ್ತಿದಾಗ	ii. ಬೇಕಾದ ಟೆಕ್ಸ್ಟ್ ಗಾಗಿ ದಾಖಲೆಯನ್ನು ಹುಡುಕಲು ಅನುವು ಮಾಡಿಕೊಡುತ್ತದೆ
c. Ctrl + F	iii. ಎಡಿಟಿಂಗ್ ರದ್ದುಪಡಿಸುತ್ತದೆ
d. Ctrl + Z	iv. ಒಂದು ಅದೇಶ (ಕಮಾಂಡ್) ಬಳಸಿ ಅನೇಕ ಸೂಚನೆಗಳನ್ನು ಏಕೈಕವಾಗಿ ಮಾಡುತ್ತದೆ

ಕೋಡ್ಗಳು :

- (1) a-iv, b-iii, c-i, d-ii (2) a-iv, b-iii, c-ii, d-i
(3) a-iv, b-ii, c-iii, d-i (4) a-iv, b-i, c-ii, d-iii

84. ERP ನ ವಿಸ್ತೃತ ರೂಪ:

- (1) ಎಲೆಕ್ಟ್ರಾನಿಕ್ ರಿಸೋರ್ಸ್ ಪ್ಲಾನಿಂಗ್ (2) ಎಲೆಕ್ಟ್ರಿಕ್ ರಿಸೋರ್ಸ್ ಪ್ಲಾನಿಂಗ್
(3) ಎಂಟರ್ ರಿಸೋರ್ಸ್ ಪ್ಲಾನಿಂಗ್ (4) ಎಂಟರ್‌ಪ್ರೈಸ್ ರಿಸೋರ್ಸ್ ಪ್ಲಾನಿಂಗ್

85. ಸೈಬರ್ ಸುರಕ್ಷತೆಗೆ ಸಂಬಂಧಿಸಿದಂತೆ ಈ ಕೆಳಗಿನವುಗಳಲ್ಲಿ ಯಾವುದು ಹ್ಯಾಕರ್‌ಗಳಿಗೆ ಒಂದು ವಿಧ ಕಲ್ಪನೆ ?

- (1) ಗ್ರೇ ಹ್ಯಾಟ್ ಹ್ಯಾಕರ್ (2) ಬ್ಲಾಕ್ ಹ್ಯಾಟ್ ಹ್ಯಾಕರ್
(3) ಪಿಂಕ್ ಹ್ಯಾಟ್ ಹ್ಯಾಕರ್ (4) ಗ್ರೀನ್ ಹ್ಯಾಟ್ ಹ್ಯಾಕರ್

86. ಯಾವ ಘಟಕವು ಕಂಪ್ಯೂಟರ್‌ನ ಎಲ್ಲಾ ಇನ್‌ಪುಟ್ ಮತ್ತು ಔಟ್‌ಪುಟ್ ಸಾಧನಗಳನ್ನು ನಿಯಂತ್ರಿಸುತ್ತದೆ ಮತ್ತು ಸಮನ್ವಯಗೊಳಿಸುತ್ತದೆ ?

- (1) ALU (2) CU (3) MU (4) VDU

87. ಹೊಂದಿಸಿ ಬರೆಯಿರಿ :

ನೆಟ್‌ವರ್ಕ್ ವಿಧ	ಅಂತರ
a. LAN	i. 2 – 50 ಕಿ.ಮೀ.
b. WAN	ii. ಪ್ರಪಂಚವ್ಯಾಪ್ತ
c. MAN	iii. 1 – 2 ಕಿ.ಮೀ.
d. PAN	iv. 10 ಮೀಟರ್‌ಗಳ ಒಳಗೆ

ಕೋಡ್‌ಗಳು :

- (1) a-ii, b-iii, c-iv, d-i (2) a-iii, b-ii, c-i, d-iv
(3) a-i, b-ii, c-iii, d-iv (4) a-iv, b-i, c-ii, d-iii

Space for Rough Work / ಕಲ್ಪನೆ ಕೆಲಸಕ್ಕೆ ಸ್ಥಳ

88. Which of the following Kannada writer is the recipient of Bala Sahitya Puraskar – 2024 given by the Sahitya Academy ?

- (1) Krishnamurthy Biligere (2) Yuma Vasuki
(3) P. Chandrashekhar Azad (4) Shruti B.R.

89. Which of the following statement related to 'The Ashes' tournament is **not** correct ?

- (1) It is a test series of cricket.
(2) The matches are held between the teams of England and Australia.
(3) ICC administers the tournament.
(4) England retained the trophy of the series which was tied in 2023.

90. Match the following :

a. Machiavelli	i. Leviathan
b. Thomas Hobbes	ii. Social Contract
c. Rousseau	iii. Wealth of Nations
d. Adam Smith	iv. The Prince

Codes :

- (1) a-i, b-ii, c-iii, d-iv (2) a-iii, b-iv, c-i, d-ii
(3) a-iv, b-i, c-ii, d-iii (4) a-iv, b-iii, c-ii, d-i

91. Write the following mountain peaks of Karnataka in descending order based on their height.

- a. Pushpagiri
b. Rudragiri
c. Baba Budan giri
d. Mullayanagiri

Codes :

- (1) d, a, b, c (2) d, c, a, b
(3) d, c, b, a (4) a, b, c, d

Space for Rough Work / ಕಚ್ಚಾ ಕೆಲಸಕ್ಕೆ ಸ್ಥಳ

SWD1201UP25

(46 - C1)

88. ಈ ಕೆಳಗಿನ ಯಾವ ಕನ್ನಡ ಲೇಖಕರು ಸಾಹಿತ್ಯ ಅಕಾಡೆಮಿ ನೀಡುವ ಬಾಲ ಸಾಹಿತ್ಯ ಪುರಸ್ಕಾರ - 2024 ಅನ್ನು ಪಡೆದಿದ್ದಾರೆ ?

- (1) ಕೃಷ್ಣಮೂರ್ತಿ ಬಿಳಿಗರ (2) ಯುಮಾ ವಾಸುಕಿ
(3) ಪಿ. ಚಂದ್ರಶೇಖರ್ ಅಜಾದ್ (4) ಶ್ರುತಿ ಬಿ.ಆರ್.

89. 'ದ ಆಷಸ್' ಪಂದ್ಯಾವಳಿಗೆ ಸಂಬಂಧಿಸಿದ ಈ ಕೆಳಗಿನ ಯಾವ ಹೇಳಿಕೆಯು ಸರಿಯಾಗಿಲ್ಲ ?

- (1) ಇದು ಕ್ರಿಕೆಟ್‌ನ ಟೆಸ್ಟ್ ಸರಣಿಯಾಗಿದೆ.
(2) ಇದು ಇಂಗ್ಲೆಂಡ್ ಮತ್ತು ಆಸ್ಟ್ರೇಲಿಯಾ ತಂಡಗಳ ನಡುವೆ ನಡೆಯುವ ಪಂದ್ಯಗಳಾಗಿವೆ.
(3) ಐಸಿಸಿ ಯು ಪಂದ್ಯಾವಳಿಯನ್ನು ನಿರ್ವಹಣೆ ಮಾಡುತ್ತದೆ.
(4) 2023 ನೇ ಸಾಲಿನಲ್ಲಿ ಸಮಬಲವಾದ ಕಾರಣ ಇಂಗ್ಲೆಂಡ್ ತಂಡವು ಸರಣಿಯ ಟ್ರೋಫಿಯನ್ನು ಉಳಿಸಿಕೊಂಡಿತು.

90. ಹೊಂದಿಸಿ ಬರೆಯಿರಿ :

a. ಮ್ಯಾಕಿಯವೆಲ್ಲಿ	i. ಲೆವಿಥಾನ್
b. ಥಾಮಸ್ ಹಾಬ್ಸ್	ii. ಸೋಷಿಯಲ್ ಕಾಂಟ್ರಾಕ್ಟ್
c. ರೂಸೋ	iii. ವೆಲ್ತ್ ಆಫ್ ನೇಷನ್ಸ್
d. ಆಡಮ್ ಸ್ಮಿತ್	iv. ದ ಪ್ರಿನ್ಸ್

ಕೋಡ್‌ಗಳು :

- (1) a-i, b-ii, c-iii, d-iv (2) a-iii, b-iv, c-i, d-ii
(3) a-iv, b-i, c-ii, d-iii (4) a-iv, b-iii, c-ii, d-i

91. ಕರ್ನಾಟಕದ ಈ ಕೆಳಗಿನ ಪರ್ವತ ಶಿಖರಗಳನ್ನು ಎತ್ತರದ ಆಧಾರದಲ್ಲಿ ಅವರೋಹಣ ಕ್ರಮದಲ್ಲಿ ಬರೆಯಿರಿ :

- a. ಪುಷ್ಪಗಿರಿ
b. ರುದ್ರಗಿರಿ
c. ಬಾಬಾ ಬುದನ್‌ಗಿರಿ
d. ಮುಳ್ಳಯ್ಯನಗಿರಿ

ಕೋಡ್‌ಗಳು :

- (1) d, a, b, c (2) d, c, a, b
(3) d, c, b, a (4) a, b, c, d

Space for Rough Work / ಕಚ್ಚಾ ಕೆಲಸಕ್ಕೆ ಸ್ಥಳ

SWD1201UP25

(47 - C1)

92. Which of the following statement/statements is/are correct with respect to bioremediation ?

- a. Bioremediation is an effective and environment-friendly method for cleaning and restoring the environment.
b. In bioremediation, microorganisms like bacteria, fungi, algae etc. are used.

Codes :

- (1) a only (2) b only
(3) Both a and b (4) Neither a nor b

93. Who among the following Prime Ministers of India had served as Chief Minister of a State ?

- a. Morarji Desai b. H.D. Deve Gowda
c. V.P. Singh d. Manmohan Singh

Select the correct answer :

- (1) a, b and c only (2) a and b only
(3) b only (4) d only

94. Consider the following organisms :

- a. *Rhizobium* b. *Anabaena*
c. *Nostoc* d. *Plasmodium*

Of these, which are considered as biofertilizers ?

- (1) a, b and d only (2) a, b and c only
(3) b, c and d only (4) a, c and d only

95. In India, there are around 5000 strains of rice and about 1000 varieties of mango that are found. This type of diversity is known as :

- (1) Species diversity (2) Genetic diversity
(3) Community diversity (4) Ecosystem diversity

96. Which one of the following gas is *not* responsible for global warming ?

- (1) CO₂ (2) CH₄ (3) O₃ (4) N₂

Space for Rough Work / ಕಚ್ಚಾ ಕೆಲಸಕ್ಕೆ ಸ್ಥಳ

SWD1201UP25

(48 - C1)

92. ಬಯೋರೆಮಿಡಿಯೇಷನ್‌ಗೆ ಸಂಬಂಧಿಸಿದಂತೆ ಈ ಕೆಳಗಿನವುಗಳಲ್ಲಿ ಯಾವ ಹೇಳಿಕೆ/ಹೇಳಿಕೆಗಳು ಸರಿಯಾಗಿದೆ/ಸರಿಯಾಗಿವೆ ?

- a. ಪರಿಸರವನ್ನು ಸ್ವಚ್ಛಗೊಳಿಸಲು ಮತ್ತು ಪುನಃಸ್ಥಾಪಿಸಲು ಬಯೋರೆಮಿಡಿಯೇಷನ್ ಒಂದು ಪರಿಣಾಮಕಾರಿ ಮತ್ತು ಪರಿಸರ ಸ್ನೇಹಿ ವಿಧಾನವಾಗಿದೆ.
b. ಬಯೋರೆಮಿಡಿಯೇಷನ್ ಪ್ರಕ್ರಿಯೆಗೆ ಬ್ಯಾಕ್ಟೀರಿಯಾ, ಶಿಲೀಂಧ್ರಗಳು, ಪಾಚಿ ಮುಂತಾದ ಸೂಕ್ಷ್ಮಜೀವಿಗಳನ್ನು ಬಳಸಲಾಗುತ್ತದೆ.

ಕೋಡ್‌ಗಳು :

- (1) a ಮಾತ್ರ (2) b ಮಾತ್ರ
(3) a ಮತ್ತು b ಎರಡೂ (4) a ಮತ್ತು b ಎರಡೂ ಸರಿಯಲ್ಲ

93. ಈ ಕೆಳಗಿನ ಭಾರತದ ಪ್ರಧಾನಮಂತ್ರಿಗಳಲ್ಲಿ ಯಾರ್ಯಾರು ಒಂದು ರಾಜ್ಯದ ಮುಖ್ಯಮಂತ್ರಿಯಾಗಿ ಸೇವೆ ಸಲ್ಲಿಸಿದ್ದರು ?

- a. ಮೊರಾರ್ಜಿ ದೇಸಾಯಿ b. ಎಚ್.ಡಿ. ದೇವೇ ಗೌಡ
c. ವಿ.ಪಿ. ಸಿಂಗ್ d. ಮನಮೋಹನ್ ಸಿಂಗ್

ಸರಿಯಾದ ಉತ್ತರವನ್ನು ಆಯ್ಕೆಮಾಡಿ :

- (1) a, b ಮತ್ತು c ಮಾತ್ರ (2) a ಮತ್ತು b ಮಾತ್ರ
(3) b ಮಾತ್ರ (4) d ಮಾತ್ರ

94. ಈ ಕೆಳಗಿನ ಜೀವಿಗಳನ್ನು ಪರಿಗಣಿಸಿ :

- a. ರೈಜೋಬಿಯಂ b. ಆನಾಬೇನಾ
c. ನಾಸ್ಟಾಕ್ d. ಪ್ಲಾಸ್ಮೋಡಿಯಂ

ಇವುಗಳಲ್ಲಿ ಜೈವಿಕ ಗೊಬ್ಬರಗಳೆಂದು ಯಾವವುಗಳನ್ನು ಪರಿಗಣಿಸಲಾಗಿದೆ ?

- (1) a, b ಮತ್ತು d ಮಾತ್ರ (2) a, b ಮತ್ತು c ಮಾತ್ರ
(3) b, c ಮತ್ತು d ಮಾತ್ರ (4) a, c ಮತ್ತು d ಮಾತ್ರ

95. ಭಾರತದಲ್ಲಿ ಸುಮಾರು 5000 ಅಕ್ಕಿಯ ತಳಿಗಳಿವೆ ಮತ್ತು 1000 ಮಾವಿನ ವಿಧಗಳು ಕಂಡುಬರುತ್ತವೆ. ಈ ರೀತಿ ವೈವಿಧ್ಯತೆಯನ್ನು ಹೀಗೆ ಕರೆಯಲಾಗಿದೆ :

- (1) ಪ್ರಭೇದ ವೈವಿಧ್ಯತೆ (2) ವಂಶವಾಹಿ ವೈವಿಧ್ಯತೆ
(3) ಸಮುದಾಯ ವೈವಿಧ್ಯತೆ (4) ಪರಿಸರ ವ್ಯವಸ್ಥೆಯ ವೈವಿಧ್ಯತೆ

96. ಈ ಕೆಳಕಂಡ ಯಾವ ಅನಿಲವು ಜಾಗತಿಕ ತಾಪಮಾನ ಹೆಚ್ಚಳಕ್ಕೆ ಕಾರಣವಾಗಿಲ್ಲ ?

- (1) CO₂ (2) CH₄ (3) O₃ (4) N₂

Space for Rough Work / ಕಚ್ಚಾ ಕೆಲಸಕ್ಕೆ ಸ್ಥಳ

SWD1201UP25

(49 - C1)

97. BOD stands for :

- (1) Biochemical oxygen demand
- (2) Biological organism decomposition
- (3) Biological organic demand
- (4) Biochemical oxygen derivative

98. Which of the following statements are correct regarding the benefits of DILRMP initiative ?

- a. Free accessibility to the records will reduce corruption and harassment.
- b. Conclusive titling will also significantly reduce litigation.
- c. These records will be tamper-proof.

Select the correct answer using the codes given below :

- (1) a and b only
- (2) b and c only
- (3) c and a only
- (4) a, b and c

99. Which dynasty is known as "Andhra-bhritya" ?

- (1) Satavahanas
- (2) Mauryas
- (3) Guptas
- (4) Vakatakas

100. Choose the correct statements from these given below :

- a. 'Arthashastra' was written by Kautilya.
- b. 'Arthashastra' contents are topics of principles of administration, responsibilities of king and ministers and military system.
- c. 'Arthashastra' book was discovered by B.L. Rice.
- d. 'Arthashastra' book was found at Oriental Library in Mysore in 1902.

Codes :

- (1) a and b only
- (2) b and c only
- (3) a, b and d only
- (4) b and c only

Space for Rough Work / ಕಚ್ಚಾ ಕೆಲಸಕ್ಕೆ ಸ್ಥಳ

(50 - C1)

SWD1201UP25

97. BOD ವಿಸ್ತೃತ ರೂಪ :

- (1) ಬಯೋಕೆಮಿಕಲ್ ಆಕ್ಸಿಜನ್ ಡಿಮಾಂಡ್ (Biochemical oxygen demand)
- (2) ಬಯಲಾಜಿಕಲ್ ಆರ್ಗ್ಯಾನಿಸಂ ಡಿಕಂಪೋಸಿಷನ್ (Biological organism decomposition)
- (3) ಬಯಲಾಜಿಕಲ್ ಆರ್ಗ್ಯಾನಿಕ್ ಡಿಮಾಂಡ್ (Biological organic demand)
- (4) ಬಯೋಕೆಮಿಕಲ್ ಆಕ್ಸಿಜನ್ ಡೆರಿವೇಟಿವ್ (Biochemical oxygen derivative)

98. DILRMP ಉಪಕ್ರಮದ ಪ್ರಯೋಜನ ಕುರಿತಂತೆ ಈ ಕೆಳಗಿನವುಗಳಲ್ಲಿ ಯಾವ ಹೇಳಿಕೆಗಳು ಸರಿಯಾಗಿವೆ ?

- a. ಉಚಿತವಾಗಿ ದಾಖಲೆಗಳು ಲಭ್ಯವಾಗುವುದರಿಂದ ಭ್ರಷ್ಟಾಚಾರ ಮತ್ತು ದೌರ್ಜನ್ಯ ಕಡಿಮೆಯಾಗುತ್ತದೆ.
- b. ನಿರ್ಣಾಯಕ ಹಕ್ಕುಪತ್ರಗಳು ವ್ಯಾಜ್ಯಗಳನ್ನು ಪರಿಣಾಮಕಾರಿಯಾಗಿ ಕಡಿಮೆಯಾಗುತ್ತದೆ.
- c. ಈ ದಾಖಲೆಗಳು ಟ್ಯಾಂಪರ್-ಪ್ರೂಫ್ ಆಗಿರುತ್ತವೆ.

ಕೆಳಗಿನ ಕೋಡ್ ಬಳಸಿ ಸರಿಯಾದ ಉತ್ತರವನ್ನು ಆಯ್ಕೆಮಾಡಿ :

- (1) a ಮತ್ತು b ಮಾತ್ರ
- (2) b ಮತ್ತು c ಮಾತ್ರ
- (3) c ಮತ್ತು a ಮಾತ್ರ
- (4) a, b ಮತ್ತು c

99. "ಆಂಧ್ರ-ಭೃತ್ಯ" ಎಂದು ಕರೆಯಲ್ಪಡುವ ರಾಜವಂಶ ಯಾವುದು ?

- (1) ಶಾತವಾಹನರು
- (2) ಮೌರ್ಯರು
- (3) ಗುಪ್ತರು
- (4) ವಕಾಟಕರು

100. ಈ ಕೆಳಗೆ ನೀಡಲಾದ ಹೇಳಿಕೆಗಳಲ್ಲಿ ಸರಿಯಾದ ಹೇಳಿಕೆಗಳನ್ನು ಆಯ್ಕೆಮಾಡಿ :

- a. 'ಅರ್ಥಶಾಸ್ತ್ರ' ಗ್ರಂಥವನ್ನು ಕೌಟಿಲ್ಯ ರಚಿಸಿದರು.
- b. 'ಅರ್ಥಶಾಸ್ತ್ರ' ಗ್ರಂಥವು ರಾಜ್ಯಾಡಳಿತದ ಕ್ರಮಗಳು, ರಾಜ ಮತ್ತು ಪ್ರವಾನಿಯ ಜವಾಬ್ದಾರಿಗಳು, ಸೈನ್ಯ ವ್ಯವಸ್ಥೆ ಕುರಿತು ವಿವರಣೆ ನೀಡುತ್ತದೆ.
- c. 'ಅರ್ಥಶಾಸ್ತ್ರ' ಗ್ರಂಥವನ್ನು ಬಿ.ಎಲ್. ರೈಸ್ ಅವರು ಪತ್ತೆ ಮಾಡಿದರು.
- d. 1902 ರಲ್ಲಿ ಮೈಸೂರಿನ ಓರಿಯಂಟಲ್ ಗ್ರಂಥಾಲಯದಲ್ಲಿ 'ಅರ್ಥಶಾಸ್ತ್ರ' ಗ್ರಂಥವನ್ನು ಪತ್ತೆಮಾಡಲಾಯಿತು.

ಕೋಡ್‌ಗಳು :

- (1) a ಮತ್ತು b ಮಾತ್ರ
- (2) b ಮತ್ತು c ಮಾತ್ರ
- (3) a, b ಮತ್ತು d ಮಾತ್ರ
- (4) b ಮತ್ತು c ಮಾತ್ರ

Space for Rough Work / ಕಚ್ಚಾ ಕೆಲಸಕ್ಕೆ ಸ್ಥಳ

(51 - C1)

SWD1201UP25